

## PORTUGUÊS

TEXTO 01 para as questões de 01 a 10.

**MANEIRA DE AMAR**

O jardineiro conversava com as flores, e elas se habituaram ao diálogo. Passava manhãs contando coisas a uma cravina ou escutando o que lhe confiava um gerânio. O girassol não ia muito com sua cara, ou porque não fosse homem bonito, ou porque os girassóis são orgulhosos de natureza.

Em vão o jardineiro tentava captar-lhe as graças, pois o girassol chegava a voltar-se contra a luz para não ver o rosto que lhe sorria. Era uma situação bastante embaraçosa, que as outras flores não comentavam. Nunca, entretanto, o jardineiro deixou de regar o pé de girassol e de renovar-lhe a terra, na ocasião devida.

O dono do jardim achou que seu empregado perdia muito tempo parado diante dos canteiros, aparentemente não fazendo coisa alguma. E mandou-o embora, depois de assinar a carteira de trabalho.

Depois que o jardineiro saiu, as flores ficaram tristes e censuravam-se porque não tinham induzido o girassol a mudar de atitude. A mais triste de todas era o girassol, que não se conformava com a ausência do homem. “Você o tratava mal, agora está arrependido?” “Não, respondeu, estou triste porque agora não posso tratá-lo mal. É a minha maneira de amar, ele sabia disso, e gostava.”

(ANDRADE, Carlos Drummond de. *Contos Plausíveis*)

01. “...e elas se habituaram ao diálogo.”

**Segundo o autor,**

- A) as flores não gostavam de dialogar com o jardineiro.
- B) o jardineiro não dava atenção às flores.
- C) o jardineiro jamais dialogara com as flores.
- D) as flores se acostumaram com o diálogo do jardineiro.
- E) as flores não paravam para ouvir a conversa do jardineiro.

02. “Em vão o jardineiro tentava captar-lhe as graças...”

**O autor nos revela que**

- A) o jardineiro não procurava conquistar o girassol.
- B) o girassol recebia maus tratos do jardineiro.
- C) o girassol demonstrava sentir simpatia pelo jardineiro.
- D) apesar de toda a sua indiferença, o girassol recebia, de vez em quando, atenção do jardineiro.
- E) mesmo sem obter bons resultados, o jardineiro procurava chamar a atenção do girassol.

03. “É a minha maneira de amar, ele sabia disso, e gostava.”

**Que idéia o autor nos quis transmitir com este trecho?**

- A) Todas as flores amam da mesma maneira.
- B) As flores amam aqueles que lhes dão carinho.
- C) O girassol demonstrou a sua maneira própria de amar.
- D) O girassol, de natureza orgulhosa, não amava o jardineiro.
- E) O girassol expressava amor como qualquer outra flor.

04. **Sabe-se que o girassol é uma flor que se volta para o sol.**

*Assinale a alternativa cuja ação não é característica dessa flor.*

- A) “Em vão o jardineiro tentava captar-lhe as graças...”
- B) “...o girassol chegava a voltar-se contra a luz para não ver o rosto que lhe sorria.”
- C) “...o jardineiro deixou de regar o pé de girassol...”
- D) “...porque não tinham induzido o girassol a mudar de atitude.”
- E) “...estou triste porque agora não posso tratá-lo mal.”

05. Qual das passagens abaixo *melhor demonstra a atenção dada pelo jardineiro a todas as flores?*

- A) "Em vão o jardineiro tentava captar-lhe as graças..."
- B) "É a minha maneira de amar, ele sabia disso, e gostava."
- C) "Nunca, entretanto, o jardineiro deixou de regar o pé de girassol e de renovar-lhe a terra."
- D) "...as flores ficaram tristes e censuravam-se porque não tinham induzido o girassol a mudar de atitude."
- E) "Passava manhãs contando coisas a uma cravina ou escutando o que lhe confiava um gerânio."

06. O trecho "...regar o pé de girassol e de renovar-lhe a terra na ocasião devida." significa que

- A) a flor não recebia tratos no momento adequado.
- B) o jardineiro não cumpria com suas obrigações na hora precisa.
- C) os procedimentos necessários ao desenvolvimento da flor eram praticados em momento oportuno.
- D) o jardineiro não respeitava as carências da flor.
- E) a flor era tratada com carinho, mas sem a devida assistência.

07. Todas as alternativas abaixo contêm exemplo de substantivo abstrato, ou seja, aquele que nomeia seres que só existem em outros ou a partir da existência ou da ação de outros seres, com exceção de uma. Assinale-a.

- A) "...e elas se habituaram ao diálogo."
- B) "...o jardineiro tentava captar-lhe as graças..."
- C) "...o girassol a mudar de atitude."
- D) "...com a ausência do homem."
- E) "...ou porque os girassóis são orgulhosos..."

08. "...ou porque os girassóis são orgulhosos de natureza."

Quanto ao termo sublinhado, afirmamos que é um adjetivo, pois ele caracteriza o ser girassol, concordando em gênero e número com ele.

Em todas as alternativas existem exemplos dessa classe de palavras, com exceção de uma. Assinale-a.

- A) "O dono do jardim achou que seu empregado perdia..."
- B) "...as flores ficaram tristes..."
- C) "...ou porque não fosse homem bonito..."
- D) "Era uma situação bastante embaraçosa..."
- E) "A mais triste de todas era o girassol..."

09. Analise as orações.

"...que as outras flores não comentavam."  
 "Nunca, entretanto, o jardineiro deixou..."  
 "E mandou-o embora, depois..."

Os termos sublinhados são respectivamente

- A) pronome demonstrativo – pronome indefinido – pronome pessoal do caso oblíquo.
- B) pronome indefinido – advérbio de tempo – pronome pessoal do caso reto.
- C) pronome indefinido – advérbio de tempo – pronome pessoal do caso oblíquo.
- D) pronome demonstrativo – advérbio de negação – pronome pessoal do caso reto.
- E) pronome indefinido – advérbio de negação – pronome pessoal do caso reto.

10. "Passava manhãs contando coisas a uma cravina..."

Se conjugássemos o verbo sublinhado no futuro do pretérito, teríamos

- A) Passasse manhãs contando coisas a uma cravina.
- B) Passará manhãs contando coisas a uma cravina.
- C) Passaria manhãs contando coisas a uma cravina.
- D) Passou manhãs contando coisas a uma cravina.
- E) Passara manhãs contando coisas a uma cravina.

11.

## MATEMÁTICA

16. Dentre os números 1502, 2345, 6531, 7054, 3052, 70593 e 41500, quantos têm o número 5 ocupando a ordem das centenas?

- A) 7  
B) 6  
C) 5  
D) 4  
E) 3

17. O valor absoluto de um algarismo é o número de unidade simples que ele representa, independente da posição que ele ocupa no numeral. Qual é a soma dos valores absolutos dos algarismos do número 199.991?

- A) 36  
B) 38  
C) 40  
D) 34  
E) 50

18. Considere qualquer número natural de dois algarismos; escrevendo-se o algarismo 5 à sua esquerda, obtém-se um número. Esse novo número tem a mais que o primeiro

- A) 5 unidades.  
B) 50 unidades.  
C) 500 unidades.  
D) 5 dezenas.  
E) 1 dezena.

19. A População de um País é 1.062.003 habitantes e se escreve assim

- A) Dez milhões e sessenta e duas mil e três pessoas.  
B) Um milhão e sessenta e duas mil e três pessoas.  
C) Mil sessenta e duas e três pessoas.  
D) Cento e seis mil e duzentas e três pessoas.  
E) Um milhão e seiscentas e vinte mil e três pessoas.

20. Que fração de um real representa uma moeda de 25 centavos?

- A)  $\frac{1}{2}$   
B)  $\frac{1}{5}$   
C)  $\frac{3}{4}$   
D)  $\frac{2}{5}$   
E)  $\frac{1}{4}$

21. Os táxis representam  $\frac{1}{3}$  da frota de 600 carros de uma cidade. A quantidade de táxi desta cidade é

- A) 150  
B) 200  
C) 300  
D) 120  
E) 100

22. Com 900 alunos, uma escola necessita de 2 auxiliares de serviços gerais, 1 merendeira, 1 secretário e 1 vigia. Se uma escola tem 1800 alunos, de quantos funcionários ela necessita?

- A) 5  
B) 9  
C) 10  
D) 6  
E) 4

23. De cada milheiro de frutas numa feira livre se perde 1 centena de frutas. Supondo-se que numa feira livre, havia 3800 laranjas, 2700 abacaxis, 1500 melancias, o desperdício dessas frutas foi de

- A) 800 frutas  
B) 700 frutas  
C) 1000 frutas  
D) 80 frutas.  
E) 1 milheiro.

24. O valor do IPTU na minha cidade é de 65 reais. Pagando-se em dia, o desconto é de 12 reais; com atraso a multa será de 15 reais. 784 moradores pagaram em dia e 1215 moradores pagaram com atraso. Deste modo, a arrecadação do IPTU foi de






- A) 133.190 reais.
- B) 123.752 reais.
- C) 130.752 reais.
- D) 89.200 reais.
- E) 41.552 reais.

25. Quando compro 5 garrafas de água mineral de 200ml, é o mesmo que comprar






- A) 5 litros
- B) 1,5 litros
- C) 0,5 litro
- D) 1 litro
- E) 10 litros

LEGISLAÇÃO DE TRÂNSITO

26. Qual dos sinais de regulamentação abaixo significa *DÊ A PREFERÊNCIA*?

- A) 
- B) 
- C) 
- D) 
- E) 

27. Marque o sinal de regulamentação abaixo que indica *PROIBIDO PARAR E ESTACIONAR*.

- A) 
- B) 
- C) 
- D) 
- E) 

28. Que sinal de regulamentação indicado abaixo significa *PROIBIDO TRÂNSITO DE MÁQUINAS AGRÍCOLAS*?

- A) 
- B) 
- C) 
- D) 
- E) 

29. Qual dos sinais de regulamentação abaixo quer dizer *USO OBRIGATÓRIO DE CORRENTES*?

- A) 
- B) 
- C) 
- D) 
- E) 

30. Qual dos sinais de advertência, indicados abaixo, significa *CURVA ACENTUADA À DIREITA*?

- A) 
- B) 
- C) 
- D) 
- E) 

31. Avançar o sinal vermelho do semáforo ou da parada obrigatória é uma infração considerada

- A) leve.
- B) média.
- C) gravíssima.
- D) grave.
- E) moderada.

32. Ultrapassar outro veículo pelo acostamento é uma infração considerada

- A) leve.
- B) média.
- C) grave.
- D) gravíssima.
- E) moderada.

**33. Dirigir veículo automotor, sem possuir carteira nacional de habilitação, é considerada uma infração**

- A) leve.                      B) grave.                      C) média.                      D) moderada.                      E) gravíssima.

**34. Quando o guarda de trânsito dá dois silvos breves, significa**

- A) Pare.                      B) Atenção e siga.                      C) Acenda a lanterna.                      D) Diminua a marcha.                      E) Motoristas a postos.

**35. Um dos sinais de advertência abaixo indica CRUZAMENTO DE VIAS. Indique-o.**



**36. Em qual alternativa existe um sinal de advertência que indica BIFURCAÇÃO EM “Y”?**



**37. Que sinal de advertência abaixo indica INTERSEÇÃO EM CÍRCULO ?**



**38. Um dos sinais de advertência abaixo indica MAQUINÁRIA AGRÍCOLA. Identifique-o.**



**39. Segundo o Código de Trânsito Brasileiro, um CAMINHÃO TRATOR é**

- A) veículo destinado ao transporte de passageiros e carga no mesmo compartimento.  
 B) veículo automotor destinado a tracionar ou arrastar outro.  
 C) local destinado ao estacionamento de bicicletas.  
 D) veículo automotor com capacidade para, até, oito pessoas.  
 E) veículo destinado a ser engatado atrás de um veículo automotor.

**40. Segundo o Código de Trânsito Brasileiro, os sinais se classificam de várias formas, dentre elas:**

- A) verticais, horizontais e sonoros.  
 B) verticais, semáforos e viaturas.  
 C) luminosos, sonoros e agentes de trânsito.  
 D) vias públicas, horizontais e verticais.  
 E) sonoros, luminosos e obras públicas.