

## CONCURSO PÚBLICO

### DADOS DE IDENTIFICAÇÃO DO CANDIDATO

Não deixe de preencher as lacunas a seguir.

Nome																			
Nº de Identidade										Órgão Expedidor					UF		Nº de Inscrição		
Prédio																		Sala	

### AGENTE DE TRÂNSITO E TRANSPORTE

#### ATENÇÃO

- Abra este Caderno, quando o Fiscal de Sala autorizar o início da Prova.
- Observe se o Caderno está completo. Ele deverá conter um total de 40 (quarenta) questões, sendo 10 (dez) de Língua Portuguesa, 05 (cinco) de Matemática, 05 (cinco) de Noções de Informática e 20 (vinte) de Conhecimentos Específicos.
- Se o Caderno estiver incompleto ou com algum defeito gráfico que lhe cause dúvidas, informe, imediatamente, ao Fiscal.
- Uma vez dada a ordem de início da Prova, preencha, nos espaços apropriados, o seu Nome completo, o Número do seu Documento de Identidade, a Unidade da Federação e o Número de Inscrição.
- Para registrar as alternativas escolhidas nas questões da prova, você receberá um Cartão-Resposta de Leitura Ótica. Verifique se o Número de Inscrição impresso no cartão coincide com o seu Número de Inscrição.
- As bolhas do Cartão-Resposta para as questões de múltipla escolha devem ser preenchidas, totalmente, com caneta esferográfica azul ou preta.
- Você dispõe de 4 horas para responder toda a Prova – já incluído o tempo destinado ao preenchimento do Cartão-Resposta. O tempo de Prova está dosado, de modo a permitir fazê-la com tranquilidade.
- Você só poderá retirar-se da sala 2 (duas) horas após o início da Prova.
- Preenchido o Cartão-Resposta, entregue-o ao Fiscal juntamente com este Caderno e deixe a sala em silêncio.

REALIZAÇÃO

BOA SORTE !

EXECUÇÃO



LÍNGUA PORTUGUESA

TEXTO 01 para as questões de 01 a 10.

**HINO DE OLINDA**

**I**

*Olinda, cofre sublime  
de brilhantes tradições  
Teu nome beleza exprime  
e produz inspirações*

**II**

*Teu céu, teu mar, teus coqueiros  
Ruínas, praias, luar  
despertam sonhos fagueiros,  
deslumbrando o nosso olhar*

**III**

*Olinda tão sedutora,  
Quanta beleza contém!  
sendo assim merecedora  
do lindo nome que tens*

**IV**

*De nossa brasilidade  
foste o berço singular!  
No teu solo a liberdade  
nunca deixou de brilhar*

**V**

*Olinda, honrando a memória  
do artista que te fundou,  
com ele reparte a glória  
que tua fama alcançou*

**VI**

*Que majestade suprema  
existe em tudo o que é teu!  
Tu és, Olinda, um poema  
que a natureza escreveu!*

**Estrilho**

*Glória a Duarte Coelho,  
Que, ouvindo o justo conselho  
de inspiração genial,  
deu luz, prestígio, beleza,  
força, progresso e grandeza,  
a ti, Olinda, imortal.*

*Letra de Themistocles de Andrade*

*Música de José Lourenço da Silva (Capitão Zuzinha)*

*www.interjornal.com.br.*

**01. Na estrofe III, ao utilizar as formas verbais “contém” e “tens”, o autor**

- A) utiliza-se do pronome “você” para se referir a Olinda.
- B) faz referência a Olinda através do pronome “vós”.
- C) concorda esses verbos com o pronome elíptico “tu”.
- D) concorda ambos os verbos com o sujeito “Olinda”, flexionando-se na 3ª pessoa do singular.
- E) comete um erro grave de concordância verbal.

**02. Na estrofe II, todas as vírgulas, excetuando-se a última, foram utilizadas para**

- A) isolar orações introduzidas por conectivos.
- B) orações coordenadas.
- C) isolar os termos explicativos.
- D) separar a oração principal das subordinadas.
- E) separar elementos de mesma função sintática.

**03. Na estrofe IV, analisando-se o verbo “deixou”, é correto afirmar.**

- A) Classifica-se como um verbo irregular de 2ª conjugação.
- B) Exprime uma ação que está ainda por acontecer.
- C) Concorda com o seu sujeito “No teu solo”.
- D) Trata-se de um verbo regular, concordando com o seu sujeito “ a liberdade”.
- E) Concorda em número e pessoa com o sujeito que se encontra a ele anteposto, “brasilidade”.

04. Sobre SINÔNIMOS, observe os termos sublinhados e os contidos entre parênteses.

- |      |  |
|------|--|
| I.   | “despertam sonhos <u>fagueiros</u> ” (nostálgicos)             |
| II.  | “foste o berço <u>singular</u> ...” (eminente)                 |
| III. | “Olinda, <u>honrando</u> a memória eminente...” (subestimando) |
| IV.  | “Que majestade <u>suprema</u> ” (depreciativa)                 |
| V.   | “Com ele <u>reparte</u> a glória” (partilha)                   |

Assinale a alternativa que contém uma afirmação correta.

- A) Apenas no item V, o termo entre parênteses é sinônimo do termo sublinhado.  
 B) Em nenhum dos itens, existem exemplos de sinônimo.  
 C) Apenas os termos sublinhados dos itens I e V são sinônimos dos termos entre parênteses.  
 D) Em todos os itens, os termos entre parênteses são sinônimos dos sublinhados.  
 E) Apenas no item IV, o termo sublinhado não é sinônimo do termo entre parênteses.

05. Com o último termo do hino, “imortal”, o autor demonstra que

- A) Olinda jamais perecerá na memória de quem a ama.  
 B) é breve o tempo de vida da cidade de Olinda.  
 C) todo olindense se considera imortal por residir em Olinda.  
 D) o tempo se encarregará de apagar a memória de Olinda.  
 E) ser imortal é algo que não deve ser imitado por Olinda.

06. Sobre REGÊNCIA VERBAL, observe os termos sublinhados.

- |      |  |
|------|--|
| I.   | “Teu nome beleza <u>exprime</u> ”                                |
| II.  | “ <u>Deslumbrando</u> o nosso olhar”                             |
| III. | “... <u>honrando</u> a memória do artista que te <u>fundou</u> ” |
| IV.  | “Com ele <u>repartes</u> a glória”                               |
| V.   | “ <u>Despertam</u> sonhos fagueiros”                             |

Assinale a alternativa que contém uma declaração correta.

- A) No item I, o verbo exige um complemento regido de preposição.  
 B) No item II, o complemento verbal não é regido de preposição.  
 C) No item III, o verbo exige dois complementos introduzidos por uma preposição.  
 D) No item IV, o complemento do verbo é regido de preposição.  
 E) No item V, o verbo não pede complemento.

07. Após a leitura do Texto 01, conclui-se que

- A) o autor nutre um sentimento de repúdio em relação a Olinda.  
 B) o autor faz uma evocação a Olinda, tecendo-lhe elogios diversos.  
 C) Olinda pouco representa para o seu povo.  
 D) Olinda apresenta poucos registros nos seus anais históricos.  
 E) desprovida de beleza e encanto, Olinda possui poucos atrativos para os turistas.

08. Ao utilizar o termo “liberdade” (estrofe IV), o autor declara que

- A) Olinda sempre manteve uma posição submissa diante dos seus governantes.  
 B) em sua trajetória de vida, a cidade de Olinda sempre trilhou as vias da liberdade.  
 C) Olinda sempre enveredou pelos caminhos da escravidão.  
 D) os anais de Olinda evidenciam uma cidade pacata e passiva em suas ações.  
 E) no cenário histórico, Olinda se destaca pela sua submissão face os seus dirigentes.

09. Em qual das alternativas os termos sublinhados caracterizam um exemplo de REGÊNCIA NOMINAL ?

- A) “Sendo assim merecedora do lindo nome que tens”  
 B) “Olinda, honrando a memória do artista que te fundou”  
 C) “No teu solo a liberdade nunca deixou de brilhar”  
 D) “Existe em tudo o que é teu”  
 E) “Deu luz, prestígio, beleza”

10. Sobre CLASSES GRAMATICAIS, analise os itens abaixo.

- |      |  |
|------|--|
| I.   | “Teu nome beleza <u>exprime e produz</u> inspirações” – o termo sublinhado se classifica como uma conjunção que exprime idéia de contrariedade.            |
| II.  | “Olinda tão <u>sedutora</u> quanta <u>beleza</u> contém” – ambos os termos sublinhados se classificam como substantivos que pertencem a uma mesma espécie. |
| III. | “Existe <u>em tudo</u> o que é teu!” – o termo sublinhado é uma palavra invariável, exprimindo uma idéia de temporalidade.                                 |
| IV.  | “Que majestade <u>suprema</u> ” – o termo sublinhado atribui qualidade ao substantivo a que ele se refere, concordando com ele em gênero e número.         |

Estão incorretos os itens

- A) I e II apenas.      B) I, II e III apenas.      C) II e III apenas.      D) I, II, III e IV.      E) III e IV apenas.

MATEMÁTICA

11. Quando Maria terminou de encher a piscina de sua casa constatou que foram gastas 48 horas para tal finalidade. Foi então que percebeu um vazamento no azulejo da piscina, pois normalmente a mesma fica totalmente cheia passadas 16 horas. Por conta desse vazamento, em quanto tempo a piscina se esvaziará completamente depois de cheia?

- A) 30 horas                      B) 28 horas                      C) 26 horas                      D) 24 horas                      E) 22 horas

12. Os donos de um restaurante de rodízio de pizza resolveram comprar um conjunto de fornos pra acelerar o preparo das pizzas. O custo dessa compra foi estimado em R\$ 5.000,00 e será dividido entre os 3 donos do restaurante diretamente proporcional a quantidade de familiares que freqüentam o restaurante. Se Paulo tem 5 parentes, Ricardo tem 10 e Felipe tem 7, de quanto é a diferença de preço a ser paga entre os dois?

- A) R\$ 2.500,00  
 B) R\$ 3.350,00  
 C) R\$ 4.750,00  
 D) R\$ 5.800,00  
 E) R\$ 6.500,00

13. Mateus quer fazer uma viagem a pé de 630 km. Caso ele caminhe 10 km a mais por dia, andará 4 dias a menos para realizar a viagem. Sendo “d” o número de dias gastos para fazer a viagem e “k” o número de km que caminhou por dia, é possível dizer que  $k - d$  é igual a

- A) 16                      B) 17                      C) 18                      D) 19                      E) 20

14. Luis foi à farmácia e anotou os preços dos remédios que pretendia levar. Chegando em casa, deu o seguinte problema ao seu irmão:

- o preço do remédio A somado ao preço do remédio B totalizou R\$ 98,00;
- o preço do remédio B somado ao preço do remédio C totalizou R\$ 130,00;
- o preço do remédio C somado ao preço do remédio A totalizou R\$ 100,00.

Partindo desses dados, quanto qual a diferença de preços entre os remédios C e A?

- A) 14                      B) 23                      C) 32                      D) 45                      E) 56

15. Renato deseja comprar uma lancha de R\$ 30.000. Ele resolveu dar 30% de entrada e financiar o resto do valor a uma taxa de 10% ao mês em 3 meses sendo os juros compostos e capitalizados mensalmente. Qual a quantia do montante da parte financiada?

- A) R\$ 32.756,80  
 B) R\$ 30.892,65  
 C) R\$ 29.346,74  
 D) R\$ 28.923,89  
 E) R\$ 27.951,00

NOÇÕES DE INFORMÁTICA

16. Os sistemas computacionais (computadores) são usualmente classificados em HARDWARE e SOFTWARE. De acordo com esta classificação, assinale a alternativa que não contém um hardware.

- A) Monitor.                      B) Microsoft Word.                      C) Gravador de CD.                      D) Teclado.                      E) Mouse.

17. Assinale a alternativa correta.

- A) O programa Microsoft Word é o programa padrão da Microsoft para acessar banco de dados.
- B) É possível acessar a internet a partir do Windows Explorer.
- C) É possível ler e-mails a partir do Microsoft Access.
- D) Para visualizar sites na internet, o sistema operacional Windows fornece, exclusivamente, o programa Internet Explorer.
- E) O programa Microsoft Excel é o programa padrão da Microsoft para edição eletrônica de textos.

18. Não é correto afirmar que tarefas relacionadas ao gerenciamento de arquivos e pastas, tais como criar, renomear e deletar arquivos, podem ser realizadas

- A) pelo programa Windows Explorer.
- B) pelo programa Meu Computador.
- C) a partir do diálogo **Abrir**, na maioria das aplicações para Windows.
- D) a partir do diálogo **Salvar como...**, na maioria das aplicações para Windows.
- E) exclusivamente, a partir do Windows Explorer.

19. Uma empresa precisa enviar convites para seus clientes. Sabendo que a empresa possui um arquivo com os dados dos clientes e que os convites seguem o mesmo modelo, qual recurso do Word pode ser utilizado para gerar os convites automaticamente, a partir deste modelo?

- A) Formatação automática (Autoformatação).
- B) Correção automática (Autocorreção).
- C) Mala direta.
- D) Resumo automático (Auto-resumo).
- E) Texto automático (Autotexto).

**20. Em uma planilha eletrônica do Microsoft Excel, uma célula corresponde a(ao)**

- A) um dos botões na barra de ferramentas do aplicativo.
- B) encontro de uma coluna e uma linha da área de trabalho do aplicativo.
- C) uma opção do menu Tabela.
- D) uma função de banco de dados do aplicativo.
- E) uma opção do menu Formatar.

**CONHECIMENTOS ESPECÍFICOS**

**21. Segundo o Código Brasileiro de Trânsito, assinale a alternativa que melhor expressa o conceito de vias terrestres.**

- A) São vias terrestres urbanas os logradouros, as ruas, as avenidas, as estradas e as rodovias, e vias terrestres rurais são os caminhos e as passagens, que terão seu uso regulamentado pelo órgão ou entidade com circunscrição sobre elas, de acordo com as peculiaridades locais e as circunstâncias especiais.
- B) São vias terrestres urbanas e rurais as ruas, as avenidas, os logradouros, as estradas e as rodovias, que terão seu uso regulamentado pelo órgão ou entidade com circunscrição sobre elas, de acordo com as peculiaridades locais e as circunstâncias especiais.
- C) São vias terrestres urbanas e rurais as ruas, as avenidas, os logradouros, os caminhos, as passagens, as estradas e as rodovias, que terão seu uso regulamentado pelo órgão ou entidade com circunscrição sobre elas, de acordo com as peculiaridades locais e as circunstâncias especiais.
- D) São vias terrestres urbanas e rurais as ruas, as avenidas, os logradouros, os caminhos, as passagens, as estradas e as rodovias, que terão seu uso regulamentado pelo órgão ou entidade com circunscrição sobre elas, de acordo com as peculiaridades locais e as circunstâncias especiais, salvo as vias internas pertencentes aos condomínios constituídos por unidades autônomas.
- E) São vias terrestres urbanas e rurais as ruas, as avenidas, os logradouros, os caminhos, as passagens, as estradas e as rodovias, que terão seu uso regulamentado pelo órgão ou entidade com circunscrição sobre elas, de acordo com as peculiaridades locais e as circunstâncias especiais, salvo as praias abertas à circulação pública.

**22. Compõem o Sistema Nacional de Trânsito:**

- A) o Conselho Nacional de Trânsito, os Conselhos Estaduais de Trânsito, o Conselho de Trânsito do Distrito Federal, os órgãos e entidades executivos de trânsito da União, dos Estados, do Distrito Federal e dos Municípios, os órgãos e entidades executivos rodoviários da União, dos Estados, do Distrito Federal e dos Municípios, a Polícia Rodoviária Federal, as Polícias Militares dos Estados e do Distrito Federal e as Juntas Administrativas de Recursos de Infrações – JARI.
- B) o Conselho Nacional de Trânsito, os Conselhos Estaduais de Trânsito, os órgãos e entidades executivos de trânsito da União, dos Estados, do Distrito Federal e dos Municípios, os órgãos e entidades executivos rodoviários da União, dos Estados, do Distrito Federal e dos Municípios, a Polícia Rodoviária Federal, as Polícias Militares dos Estados e do Distrito Federal e as Juntas Administrativas de Recursos de Infrações.
- C) o Conselho Nacional de Trânsito, os Conselhos Estaduais de Trânsito, o Conselho de Trânsito do Distrito Federal, um representante do Ministério dos Transportes, um representante do Ministério do Exército, a Polícia Rodoviária Federal, as Polícias Militares dos Estados e do Distrito Federal e as Juntas Administrativas de Recursos de Infrações – JARI.
- D) o Conselho Nacional de Trânsito, os Conselhos Estaduais de Trânsito, os Conselhos Estaduais de Trânsito, o Conselho de Trânsito do Distrito Federal, os órgãos e entidades executivos de trânsito da União, dos Estados, do Distrito Federal e dos Municípios, os órgãos e entidades executivos rodoviários da União, dos Estados, do Distrito Federal e dos Municípios, a Polícia Rodoviária Federal e as Juntas Administrativas de Recursos de Infrações.
- E) o Conselho Nacional de Trânsito, os Conselhos Estaduais de Trânsito, um representante do Ministério dos Transportes, os órgãos e entidades executivos rodoviários da União, dos Estados, do Distrito Federal e dos Municípios, a Polícia Rodoviária Federal, as Polícias Militares dos Estados e do Distrito Federal e as Juntas Administrativas de Recursos de Infrações.

**23. O Código Brasileiro de Trânsito atribuiu várias competências aos órgãos e entidades executivos de trânsito dos Municípios, no âmbito de sua circunscrição. Assinale a alternativa que expressa uma dessas competências.**

- A) A implantação e a operação do sistema de sinalização, dos dispositivos e dos equipamentos de controle viário, mesmo que em rodovias ou estradas de âmbito estadual.
- B) A coleta de dados estatísticos e a elaboração de estudos sobre os acidentes de trânsito e suas causas.
- C) A coleta de dados estatísticos e a elaboração de estudos sobre o desenvolvimento da circulação e da segurança de ciclistas.
- D) A fiscalização, a autuação e a aplicação das penalidades e medidas administrativas cabíveis relativas a infrações por dimensões dos veículos, bem como a notificação e a arrecadação das multas que aplicar.
- E) O credenciamento dos serviços de veículos de propulsão humana e de tração animal.

**24. O trânsito de veículos nas vias terrestres abertas à circulação obedece a várias normas. Assinale a alternativa que expressa uma dessas normas.**

- A) O condutor deverá guardar distância de segurança lateral e frontal entre o seu e os demais veículos, bem como em relação ao bordo da pista, considerando-se, no momento, a velocidade e as condições do local, da circulação, do veículo e as condições climáticas.
- B) A circulação far-se-á pelo lado direito da via, sem quaisquer exceções.
- C) Quando houver veículos transitando por fluxos que se cruzem, ao se aproximarem de local não sinalizado, dar-se-á passagem preferencial, no caso de rotatória, àquele que estiver em via reta.
- D) Quando uma pista de rolamento comportar várias faixas de circulação no mesmo sentido, são as da esquerda destinadas ao deslocamento dos veículos mais lentos e de maior porte, e as da direita, destinadas à ultrapassagem e ao deslocamento dos veículos de maior velocidade, salvo quando houver faixa especial a eles destinada.
- E) Os veículos destinados a socorro de incêndio e salvamento, os de polícia, os de fiscalização e operação de trânsito e as ambulâncias poderão fazer uso de dispositivos de alarme sonoro e de iluminação vermelha intermitente, mesmo quando não estiverem em efetiva prestação de serviço de urgência.

**25. Quanto ao uso de luzes por veículos terrestres, é correto afirmar.**

- A) O condutor deve manter acesos os faróis do veículo, utilizando luz alta, durante a noite e luz baixa durante o dia nos túneis providos de iluminação pública.
- B) Nas vias não iluminadas, o condutor deve sempre usar luz alta.
- C) A utilização do pisca-alerta somente pode ocorrer para indicar situações de emergência.
- D) O condutor manterá acesas, à noite, as luzes de posição quando o veículo estiver parado para fins de embarque ou desembarque de passageiros e carga ou descarga de mercadorias.
- E) Os veículos de transporte coletivo regular de passageiros, quando circularem em faixas próprias a eles destinadas, e os ciclos motorizados deverão utilizar-se de farol de luz alta durante a noite e baixa durante o dia.

**26. Indique a opção que apresenta a correta classificação das vias abertas à circulação.**

- A) Vias urbanas que compreendem as vias de trânsito rápido, arteriais, coletoras e estradas, e vias rurais que compreendem as vias locais e as rodovias.
- B) Vias urbanas que compreendem as vias arteriais, coletoras e locais, e vias rurais que compreendem as rodovias e estradas.
- C) Vias urbanas que compreendem as vias de trânsito rápido, arteriais, coletoras e locais, e vias rurais que compreendem as rodovias e estradas.
- D) Vias urbanas que compreendem as vias de trânsito rápido, arteriais, coletoras, locais e estradas, e vias rurais que compreendem as rodovias.
- E) Vias urbanas que compreendem as vias de trânsito rápido, arteriais, coletoras, locais e rodovias, e vias rurais que compreendem as estradas.

**27. De acordo com as normas gerais de circulação e conduta expressas no Código Brasileiro de Trânsito,**

- A) os usuários das vias terrestres devem abster-se de obstruir o trânsito ou torná-lo perigoso, atirando, depositando ou abandonando na via objetos ou substâncias ou, ainda, nela criando qualquer outro obstáculo, salvo se ameaçado de atropelamento pelo condutor de um veículo.
- B) o uso da buzina só poderá ser feito, desde que em toque breve, para as advertências necessárias a fim de evitar acidentes, ou quando fora das áreas urbanas, for conveniente advertir a um condutor sobre um perigo iminente.
- C) nunca um condutor deverá frear bruscamente seu veículo.
- D) o embarque e o desembarque devem ocorrer sempre do lado da calçada, inclusive para o condutor.
- E) nas paradas, operações de carga ou descarga e nos estacionamentos, o veículo deverá ser posicionado no sentido do fluxo, paralelo ao bordo da pista de rolamento e junto à guia da calçada (meio-fio), admitidas as exceções devidamente sinalizadas.

**28. Assinale a alternativa que indica, em regra, as velocidades máximas nas respectivas vias de trânsito.**

- A) Sessenta quilômetros por hora, nas vias locais.
- B) Quarenta quilômetros por hora, nas vias coletoras.
- C) Cem e dez quilômetros por hora, nas vias de trânsito rápido.
- D) Oitenta quilômetros por hora, para automóveis, camionetas e motocicletas nas rodovias.
- E) Cinquenta quilômetros por hora, nas estradas.

**29. Marque a alternativa que relaciona corretamente a classificação dos sinais de trânsito.**

- A) Verticais, horizontais, luminosos e sonoros.
- B) Verticais, horizontais, luminosos, sonoros e gestos do agente de trânsito e do condutor.
- C) Horizontais, luminosos, sonoros, dispositivos de sinalização auxiliar e gestos do agente de trânsito e do condutor.
- D) Horizontais, luminosos, sonoros, dispositivos de sinalização auxiliar, gestos do agente de trânsito e do condutor, e verticais.
- E) Luminosos, sonoros, dispositivos de sinalização auxiliar, gestos do agente de trânsito, e horizontais.

**30. De acordo com o artigo 89 do Código Brasileiro de Trânsito, a sinalização de trânsito terá a seguinte ordem de prevalência:**

- A) indicações do semáforo, indicações dos sinais, ordens do agente de trânsito e demais normas de circulação e outros sinais.
- B) ordens do agente de trânsito, indicações dos sinais, indicações do semáforo e demais normas de trânsito.
- C) ordens do agente de trânsito, indicações do semáforo, indicações dos sinais e demais normas de trânsito.
- D) indicações dos sinais, indicações do semáforo, ordens do agente de trânsito e demais normas de trânsito.
- E) ordens do agente de trânsito, indicações do semáforo, demais normas de trânsito e indicações dos sinais.

**31. Quanto à classificação dos veículos, pode-se afirmar que são veículos**

- A) de passageiros, dentre outros: a motocicleta, o caminhão, a caminhonete.
- B) de carga, dentre outros: a motocicleta, o caminhão, o carro de mão.
- C) de passageiros, dentre outros: o trator de esteira, a bicicleta, a motoneta.
- D) de competição, dentre outros: a bicicleta, a motoneta, o ônibus.
- E) quanto à categoria, apenas os oficiais, os de representação diplomática, os particulares e os de aluguel.

**32. A expedição de novo Certificado de Registro de Veículo é obrigatória, quando**

- A) houver transferência da propriedade do veículo, salvo se o novo proprietário for cônjuge do anterior.
- B) o proprietário se deslocar para outro Município distinto de seu domicílio ou residência.
- C) houver qualquer alteração na característica do veículo.
- D) houver qualquer mudança na categoria do veículo, salvo a alteração de aluguel para particular.
- E) houver, à exceção da cor, qualquer alteração na característica do veículo.

**33. O condutor de veículo de transporte coletivo de passageiros, de escolares, de emergência ou de produto perigoso deve atender a requisitos específicos. Indique a alternativa que apresenta dois desses requisitos.**

- A) Ser maior de dezoito anos e estar habilitado, no mínimo, há dois anos na categoria B.
- B) Ser maior de vinte e um anos e não ter cometido nenhuma infração grave ou gravíssima ou ser reincidente em infrações médias durante os últimos dez meses.
- C) Ser aprovado em curso especializado e em curso de treinamento de prática veicular em situação de risco, nos termos da normatização do CONTRAN e ser maior de dezoito anos.
- D) Não ter cometido nenhuma infração grave ou gravíssima ou ser reincidente em infrações médias durante os últimos doze meses e ser maior de vinte e um anos.
- E) Ser maior de vinte e um anos e estar habilitado, no mínimo, há um ano na categoria B.

**34. Segundo a Resolução nº 149/2003 do Conselho Nacional de Trânsito, é correto afirmar.**

- A) O auto de infração vale como notificação da autuação quando colhida a assinatura do condutor e a infração for de responsabilidade do condutor, ou quando for de responsabilidade do proprietário e este estiver conduzindo o veículo.
- B) Salvo disposição em contrário, após a verificação da regularidade do Auto de Infração, a autoridade de trânsito expedirá, no prazo máximo de 15 (quinze) dias contados da data do cometimento da infração, a Notificação da Autuação dirigida ao proprietário do veículo, na qual deverão constar, no mínimo, os dados definidos no artigo 280 do Código Brasileiro de Trânsito e em regulamentação específica.
- C) Na Notificação da Autuação constará a data do término do prazo para a apresentação da Defesa da Autuação pelo proprietário do veículo ou pelo condutor infrator devidamente identificado, que não será inferior a 30 (trinta) dias, contados a partir da data da notificação da autuação.
- D) Nos casos dos veículos registrados em nome de missões diplomáticas, repartições consulares de carreira ou representações de organismos internacionais e de seus integrantes, a Notificação da Autuação deverá ser remetida ao Ministério dos Transportes, para as providências cabíveis, passando a correr os prazos a partir do seu conhecimento pelo proprietário do veículo.
- E) Quando o veículo estiver registrado em nome de sociedade de arrendamento mercantil, o órgão ou entidade de trânsito deverá encaminhar a Notificação da Autuação diretamente ao condutor infrator, que, para os fins dessa Resolução, se equipara ao proprietário do veículo, cabendo-lhe a remessa ao arrendatário do veículo.

**35. Segundo a Resolução nº 149/2003 do Conselho Nacional de Trânsito, nas hipóteses em que não haja identificação do condutor infrator, a Notificação de Autuação deve ser acompanhada de formulário que contenha, dentre outros, os seguintes dados:**

- A) a identificação do órgão ou entidade de trânsito responsável pela autuação, campos para o preenchimento da identificação do condutor infrator: nome, números do registro do documento de habilitação, de identificação e do CPF, a placa e a cor do veículo e o número do Auto de Infração.
- B) a identificação do órgão ou entidade de trânsito responsável pela autuação, a identificação do agente ou autoridade responsável pela autuação, a placa do veículo e o número do Auto de Infração.
- C) a identificação do agente ou autoridade responsável pela autuação, a data do término do prazo para a identificação do condutor infrator, placa do veículo e o número do Auto de Infração.
- D) a identificação do órgão ou entidade de trânsito responsável pela autuação, campos para o preenchimento da identificação do condutor infrator: nome, números do registro do documento de habilitação, de identificação e do CPF, a placa e a cor do veículo e número do Auto de Infração.
- E) a identificação do órgão ou entidade de trânsito responsável pela autuação, a placa do veículo e o número do Auto de Infração.

**36. De acordo com a Resolução nº 141/2002, do Conselho Nacional de Trânsito, o comprovante da infração por excesso de velocidade, poderá ser emitido por aparelho, por equipamento ou por qualquer outro meio tecnológico medidor de velocidade, com dispositivo registrador de imagem que deverá permitir a identificação do local, da marca e da placa e da marca do veículo e conter**

- A) a velocidade mínima da via, a velocidade do veículo medida pelo aparelho, pelo equipamento ou por qualquer outro meio tecnológico, a identificação e data de verificação do aparelho, do equipamento ou de qualquer outro meio tecnológico, o local, a data e a hora da infração e a identificação do agente de trânsito, quando se tratar de aparelho, de equipamento ou de qualquer outro meio tecnológico do tipo estático, portátil ou móvel.
- B) a velocidade regulamentar da via, a velocidade do veículo medida pelo aparelho, pelo equipamento ou por qualquer outro meio tecnológico, a data de verificação do aparelho, do equipamento ou de qualquer outro meio tecnológico, o local, a data da infração e a identificação do agente de trânsito, quando se tratar de aparelho, de equipamento ou de qualquer outro meio tecnológico do tipo estático, portátil ou móvel.
- C) a velocidade regulamentar da via, a velocidade do veículo medida pelo aparelho, pelo equipamento ou por qualquer outro meio tecnológico, a identificação e data de verificação do aparelho, do equipamento ou de qualquer outro meio tecnológico, o local, a data e a hora da infração e a identificação do agente de trânsito, quando se tratar de aparelho, de equipamento ou de qualquer outro meio tecnológico do tipo estático, portátil ou móvel.
- D) a velocidade máxima da via, a velocidade do veículo medida pelo aparelho, pelo equipamento ou por qualquer outro meio tecnológico, a identificação e data de verificação do aparelho, do equipamento ou de qualquer outro meio tecnológico, o local e a hora da infração e a identificação do agente de trânsito.
- E) a velocidade regulamentar da via, a velocidade do veículo medida pelo aparelho, pelo equipamento ou por qualquer outro meio tecnológico, a identificação e data de verificação do aparelho, do equipamento ou de qualquer outro meio tecnológico, o local, a data e a hora da infração.

**37. À luz do artigo 2º, caput, da Resolução nº 082/98 do Conselho Nacional de Trânsito, é autorizado, em regra, o uso de veículo de carga para transporte de passageiros eventualmente, e a título precário, nas seguintes hipóteses:**

- A) entre localidades de origem e destino que estiverem situadas em um mesmo município, entre municípios limítrofes e entre municípios de um mesmo Estado, exclusivamente, quando não houver linha regular de ônibus.

- B) entre localidades de origem e destino que estiverem situadas em um mesmo município, entre municípios limítrofes e entre municípios de um mesmo Estado, quando não houver linha regular de ônibus ou as linhas existentes não forem suficientes para suprir as necessidades daquelas comunidades.
- C) exclusivamente, entre localidades de origem e destino que estiverem situadas em um mesmo município e entre municípios limítrofes, quando não houver linha regular de ônibus ou as linhas existentes não forem suficientes para suprir as necessidades daquelas comunidades.
- D) entre localidades de origem e destino que estiverem situadas em um mesmo município, entre municípios limítrofes e entre municípios de um mesmo Estado, quando não houver linha regular de ônibus ou táxi ou as linhas existentes de ônibus não forem suficientes para suprir as necessidades daquelas comunidades.
- E) exclusivamente, entre localidades de origem e destino que estiverem situadas em um mesmo município, quando não houver linha regular de ônibus ou as linhas existentes não forem suficientes para suprir as necessidades daquelas comunidades.

**38. Indique a alternativa que relaciona corretamente as infrações de trânsito, conforme o grau de gravidade.**

- A) São infrações leves, dentre outras, dirigir sem atenção ou sem os cuidados indispensáveis à segurança; deixar o condutor ou passageiro de usar o cinto de segurança.
- B) São infrações graves, dentre outras, deixar o condutor ou passageiro de usar o cinto de segurança; estacionar o veículo afastado da guia da calçada (meio-fio) de cinqüenta centímetros a um metro.
- C) São infrações gravíssimas, dentre outras, dirigir veículo sem possuir Carteira Nacional de Habilitação ou Permissão para dirigir; fazer ou deixar que se faça reparo em veículo na via pública, salvo nos casos de impedimento absoluto de sua remoção e sem que o veículo esteja devidamente sinalizado em pista de rolamento de rodovias e vias de trânsito rápido.
- D) São infrações leves, dentre outras, dirigir sem atenção ou sem os cuidados indispensáveis à segurança; deixar o condutor de prestar socorro à vítima de acidente de trânsito quando solicitado pela autoridade e seus agentes.
- E) São infrações graves, dentre outras, deixar o condutor ou passageiro de usar o cinto de segurança; deixar o condutor de prestar socorro à vítima de acidente de trânsito quando solicitado pela autoridade e seus agentes.






**39. Leia atentamente as seguintes sentenças:**

1. *crime: cometer homicídio culposo na direção de veículo automotor – pena: detenção, de dois a quatro anos, e suspensão ou proibição de se obter a permissão ou a habilitação para dirigir veículo automotor.*
2. *crime: afastar-se o condutor do veículo do local do acidente, para fugir à responsabilidade penal ou civil que lhe possa ser atribuída – pena: detenção, de seis meses a um ano, ou multa.*
3. *crime: conduzir veículo automotor, na via pública, sob a influência de álcool ou substância de efeitos análogos, expondo a dano potencial a incolumidade de outrem – pena: detenção, de seis meses a um ano, ou multa.*
4. *crime: participar, na direção de veículo automotor, em via pública, de corrida, disputa ou competição automobilística não autorizada pela autoridade competente, desde que resulte dano potencial à incolumidade pública ou privada – pena: detenção, de seis meses a dois anos, multa e suspensão ou proibição de se obter a permissão ou a habilitação para dirigir veículo automotor.*

**Diante do exposto, assinale a alternativa que enumera as sentenças corretas quanto à correspondência entre as espécies de crime de trânsito e as suas respectivas penas, de acordo com o disposto no Código Brasileiro de Trânsito.**

- A) 1, 2, 3 e 4.                      B) 1, 2 e 3.                      C) 2, 3 e 4.                      D) 1, 2 e 4.                      E) 1, 3 e 4.

**40. Com amparo na Resolução nº 160/2004 do Conselho Nacional de Trânsito, assinale a alternativa que apresenta a correta correspondência entre o sinal de regulamentação e o seu significado.**

- A)  - CONSERVE-SE À DIREITA
- B)  - PASSAGEM OBRIGATÓRIA
- C)  - PESO MÁXIMO PERMITIDO POR EIXO
- D)  - PESO BRUTO TOTAL MÁXIMO PERMITIDO
- E)  - CIRCULAÇÃO EXCLUSIVA DE ÔNIBUS