

PROVA DE GEOGRAFIA

01.

“O Brasil globalizou o trabalho

Profissionais brasileiros descobriram o mercado internacional. Com US \$ 6 bilhões, a venda de serviços já é o segundo item da pauta de exportações.”

(Revista Época, nº 414, 24 de abril de 2006)

Parte **substancial** do impulso para essa explosão de exportações de serviços veio do (da)

- A) crise do NAFTA.
- B) desvalorização do real, em 1999.
- C) fim do Socialismo, na Europa Oriental.
- D) baixa carga tributária brasileira.
- E) modelo de substituição de importações adotado pelo Governo Federal.

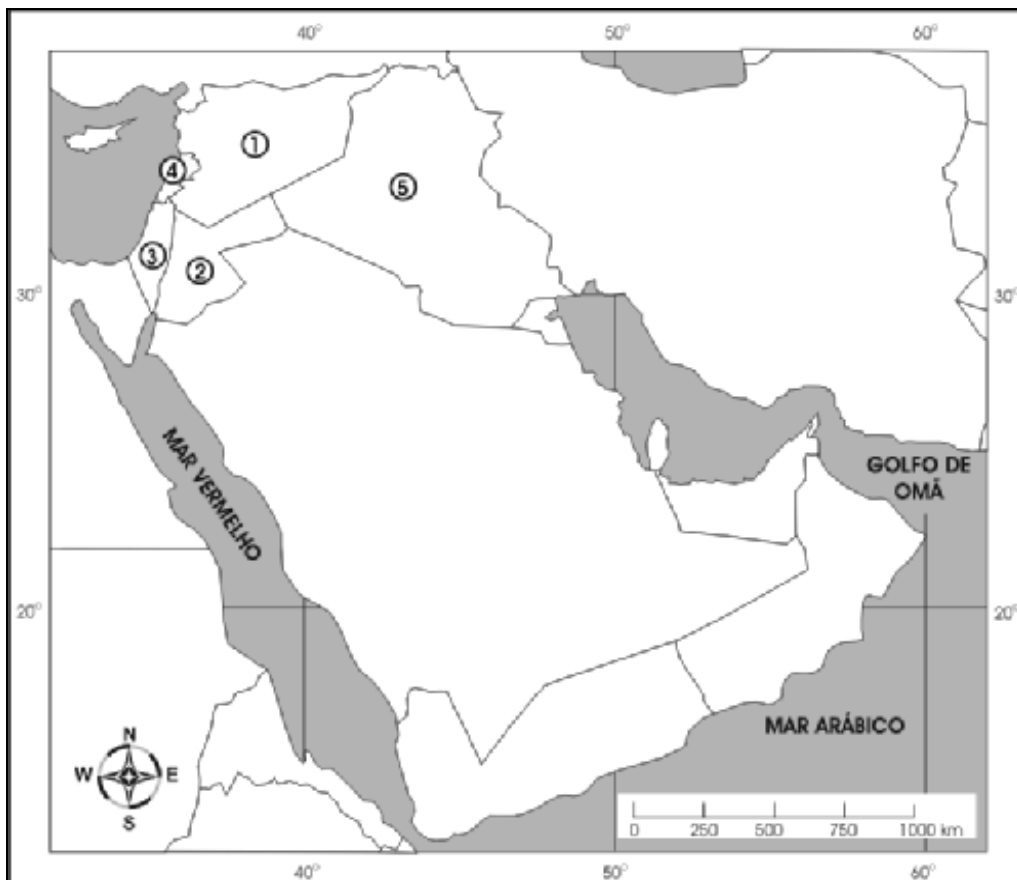
02. A PETROBRAS descobriu, em julho de 2006, uma nova jazida de petróleo no Rio de Janeiro, confirmando a existência, no Brasil, de um produto semelhante ao valorizado óleo árabe. Esse fato ocorreu em

- A) áreas de colisão de placas litosféricas.
- B) terrenos quartzíticos pré-cambrianos.
- C) micaxistos e ardósias, sob o fundo do oceano Atlântico.
- D) bacia sedimentar.
- E) terrenos do escudo cristalino, na fronteira com São Paulo.

03.

“Representantes do Hizbollah e membros do gabinete libanês chegaram a um acordo em torno de um cessar-fogo, mas as reservas expressadas, pelo grupo xiita, devem torná-lo pouco produtivo para terminar a escalada de violência que já dura 18 dias”

(Notícia divulgada na Folha de São Paulo, 30/07/ 2006)



O país que é palco do conflito referido na notícia está indicado no mapa pelo número

- A) 1.
- B) 2.
- C) 3.
- D) 4.
- E) 5.

04.

“O rebuliço provocado pelo setor alcooleiro no início de 2006 (no Brasil), quando os preços do produto bateram recorde pela combinação entre entressafra e explosão de demanda, resultou da antecipação da moagem da safra de maio para março.”

(Revista Globo Rural, nº 247, maio de 2006)

Essa explosão de demanda mencionada no texto decorreu principalmente do (a)

- A) redução significativa da gasolina fornecida pela PETROBRAS.
- B) processo político-econômico do Governo de esquerda da Bolívia, no tocante ao setor energético.
- C) aumento da procura pelo álcool anidro.
- D) paralisação da colheita de cana-de-açúcar no Nordeste, em face de graves conflitos agrários.
- E) queda do valor do dólar no mercado latino-americano.

05.

“Trata-se de uma medida que fornece o grau de concentração de uma população no território, dada pelo quociente entre o volume total de população da área e sua extensão territorial.”

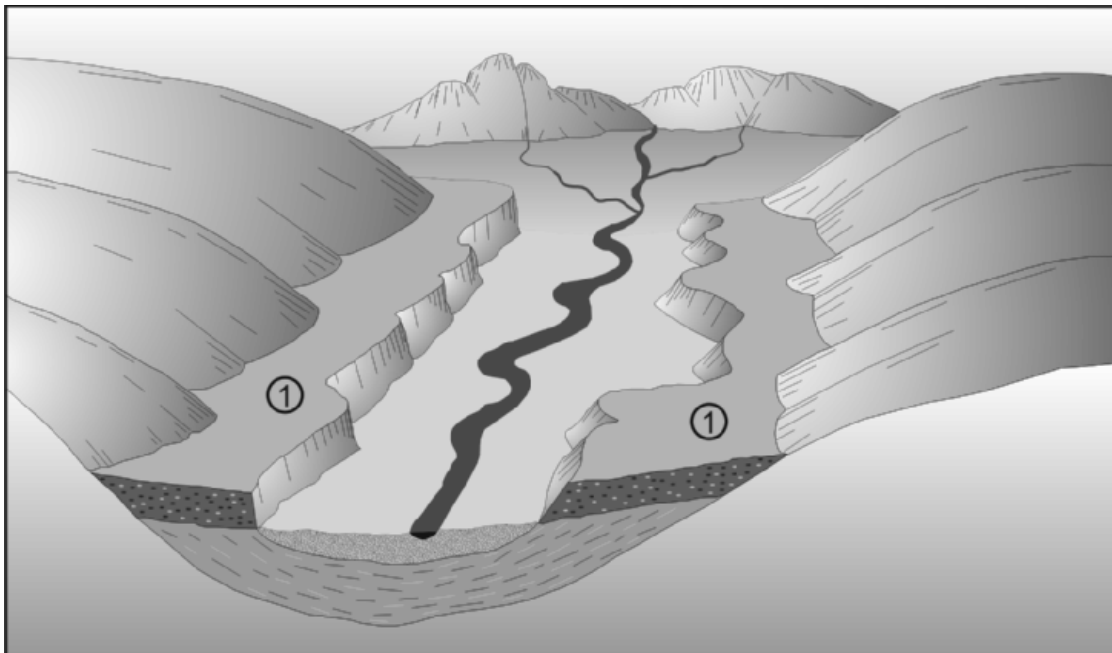
Essa é a definição de

- A) Crescimento Vegetativo.
- B) Esperança de Vida.
- C) IDH.
- D) Densidade demográfica.
- E) Pirâmide Etária.

06. O conjunto de microrregiões geográficas, contíguas e presentes na mesma unidade da federação, definidas com base no quadro natural, no processo social e na rede de comunicações e de lugares, corresponde à

- A) mesorregião geográfica.
- B) metrópole nacional.
- C) metrópole regional.
- D) região fisiográfica.
- E) macrorregião natural.

07. No esboço de paisagem a seguir, duas áreas estão indicadas pelo número 1. Tais áreas prestam-se particularmente às atividades agrícolas.



Qual a denominação dada a essas áreas?

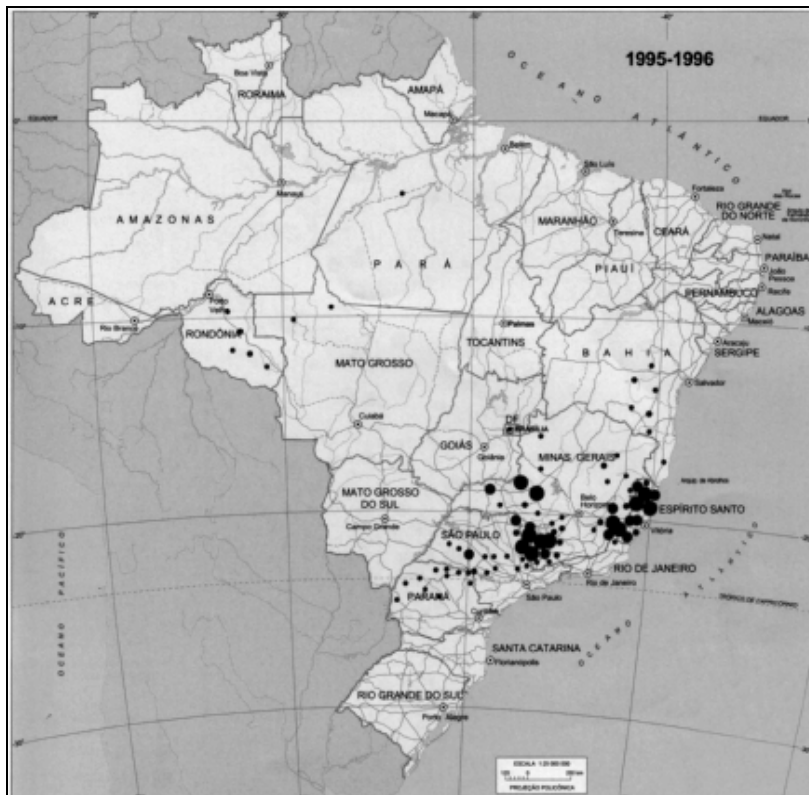
- A) Chapadas.
- B) Terraços flúvio-marinhos.
- C) Patamares tectônicos.
- D) Planícies lacustres.
- E) Terraços fluviais.

08. As áreas 1 e 2 indicadas no mapa a seguir são respectivamente



- A) Bacia do Araguaia e Bacia do Itaipuru.
- B) Bacia do Tocantins e Bacia do São Francisco.
- C) Bacia do Xingu e Bacia do Parnaíba.
- D) Bacia do Tocantins e Bacia do Itaipuru.
- E) Bacia do Araguaia e Bacia do São Francisco.

09. Observe atentamente o mapa a seguir.



Nele, os círculos escuros correspondem à produção de

- A) soja.
- B) algodão arbóreo.
- C) café.
- D) arroz.
- E) cana-de-açúcar.

10. Identifique as principais características geográficas da região indicada no mapa a seguir.



1. Rios caudalosos de regime sazonal intermitente.
2. Domínio de florestas densas caducifólias.
3. Ausência de climas tropicais com verões chuvosos.
4. Predomínio de solos bem desenvolvidos.
5. Amplas planícies fluviais com terrenos quaternários.
6. Formações geológicas favoráveis à existência de muitos minerais fundamentais ao processo industrial.

Estão corretas apenas as afirmativas

- A) 1 e 6. B) 2 e 6. C) 1, 3 e 5. D) 3, 4 e 5. E) 4, 5 e 6.

11. O país indicado, no mapa a seguir, por uma área pontilhada, apresenta as seguintes características, exceto uma. Assinale-a.



- A) A planície pampeana é reconhecida mundialmente como uma das zonas mais aptas para a produção de carne e grãos.
- B) O anticiclone do Atlântico Sul penetra no país, provocando aumento da temperatura do ar.
- C) A planície chaco-pampeana abarca praticamente toda zona oriental do país, desde o limite com a Bolívia e o Paraguai até o rio Colorado.
- D) A parte oriental do país é dominada por um clima árido que é resultante da ação do anticiclone do Pacífico Sul.
- E) Em diversas áreas do país, realizam-se atividades agropecuárias que se voltam à colocação da produção no mercado e ao autoconsumo.

Nas questões de 12 a 16, assinale, na coluna I, as afirmativas verdadeiras e, na coluna II, as falsas.

12. As afirmativas a seguir referem-se ao tema “Dinâmica da População do Brasil”. Analise-as.

I	II	
0	0	Durante parte do século XX, o Brasil foi um dos países que mais recebeu imigrantes, principalmente da Europa.
1	1	Os eslavos, principalmente os poloneses, vieram ao Brasil por razões basicamente políticas.
2	2	O crescimento da população brasileira apoiou-se nas taxas de migração, particularmente importantes nas décadas de 70 e 80 do século XX, em face da implantação do modelo agroexportador.
3	3	O Brasil foi um país essencialmente agrário até 1930, apresentando, então, uma população predominantemente rural.
4	4	Nas décadas de 1980 e 1990, houve uma drástica redução da emigração brasileira, justificada pela economia de pleno emprego, adotada após a redemocratização do país.

13. Uma ampla área territorial do Nordeste brasileiro é dominada por condições climáticas semi-áridas que, em muitos casos, podem representar um obstáculo ao desenvolvimento regional. Sobre o semi-árido brasileiro, é correto afirmar que

I	II	
0	0	as secas, particularmente devido ao seu caráter intermitente, nem sempre previsíveis, representam um fator limitante à frágil economia regional.
1	1	com a intensificação econômica da região, os efeitos antrópicos se diversificaram, e a vegetação natural foi largamente substituída pelo sistema agropastoril.
2	2	a agricultura mercantil no semi-árido caracteriza-se como uma atividade não subordinada à indústria, quer como consumidora de produtos, quer como fornecedora de matéria-prima.
3	3	uma parcela significativa dos solos do semi-árido brasileiro encontra-se abandonada, devido ao esgotamento dos nutrientes, em decorrência do uso intensivo e dos processos erosivos.
4	4	a quase totalidade da região, sobretudo nos estados do Ceará, do Rio Grande do Norte e da Paraíba, possui um regime de chuvas de inverno.

14. A parte oriental do Estado de Pernambuco, particularmente a Região Metropolitana, possui um regime de chuvas que é determinado diretamente pelos seguintes sistemas atmosféricos:

I	II	
0	0	massa de ar Equatorial Atlântica.
1	1	linhas de estabilidade extratropical.
2	2	Frente Polar Atlântica.
3	3	Zona de Convergência Intertropical.
4	4	Ondas de Leste.

15. Segundo a Constituição da República Federativa do Brasil, compete privativamente ao Presidente da República

I	II	
0	0	decretar o estado de sítio.
1	1	fechar o Congresso Nacional.
2	2	exercer o comando supremo das Forças Armadas.
3	3	vetar projetos de lei.
4	4	nomear membros do Conselho da República.

16. Sobre os principais atributos de uma bacia hidrográfica, é correto dizer que

I	II	
0	0	os rios que atravessam espaços geográficos semi-áridos possuem, em geral, regime sazonal intermitente.
1	1	o padrão de drenagem de uma região independe da litologia, embora dependa fortemente das condições climáticas ambientais.
2	2	os rios que atravessam uma área fraturada ou falhada não correm em linha reta e, sim, descrevem amplos meandros decorrentes das influências tectônicas e estruturais da área.
3	3	a foz de um rio, em área oceânica, pode ser do tipo delta ou estuário, dependendo, principalmente, da carga sedimentar carregada pela corrente fluvial.
4	4	os rios de planalto são excelentes para a navegação, mas não se prestam para a produção de energia em face da topografia plana.