



SECRETARIA DE ADMINISTRAÇÃO DO ESTADO  
SELEÇÃO PÚBLICA SIMPLIFICADA

**DADOS DE IDENTIFICAÇÃO DO CANDIDATO**

*Não deixe de preencher as informações a seguir.*

<b>Prédio</b>	<b>Sala</b>

<b>Nome</b>

<b>Nº de Identidade</b>	<b>Órgão Expedidor</b>	<b>UF</b>	<b>Nº de Inscrição</b>

EXPRESSO CIDADÃO

**ATENÇÃO**

- *Abra este Caderno, quando o Fiscal de Sala autorizar o início da Prova.*
- *Observe se o Caderno está completo. Ele deverá conter 40 (quarenta) questões objetivas de múltipla escolha com 05 (cinco) alternativas cada, sendo 20 de Língua Portuguesa, 10 (dez) de Raciocínio Lógico e 10 (dez) de Noções de Ética e Cidadania.*
- *Se o Caderno estiver incompleto ou com algum defeito gráfico que lhe cause dúvidas, informe, imediatamente, ao Fiscal.*
- *Uma vez dada a ordem de início da Prova, preencha, nos espaços apropriados, o seu Nome completo, o Número do seu Documento de Identidade, a Unidade da Federação e o Número de Inscrição.*
- *Para registrar as alternativas escolhidas nas questões objetivas de múltipla escolha, você receberá um Cartão-Resposta de Leitura Ótica. Verifique se o Número de Inscrição impresso no Cartão coincide com o seu Número de Inscrição.*
- *As bolhas constantes do Cartão-Resposta devem ser preenchidas totalmente, com caneta esferográfica azul ou preta.*
- *Preenchido o Cartão-Resposta, entregue-o ao Fiscal, juntamente com este Caderno e deixe a sala em silêncio.*

**NINGUÉM**

*A rua estava fria. Era sábado ao anoitecer, mas eu estava chegando e não saindo. Passei no bar e comprei um maço de cigarros. Vinte cigarros. Eram os vinte amigos que iam passar a noite comigo.*

*A porta se fechou como uma despedida para a rua. Mas a porta sempre se fechava assim. Ela se fechou com um som abafado e rouco. Mas era sempre assim que ela se fechava. Um som que parecia o adeus de um condenado. Mas a porta simplesmente se fechara e ela sempre fechava assim. Todos os dias ela se fechava assim.*

*Acender o fogo, esquentar o arroz, fritar o ovo. A gordura estala e espirra, ferindo minhas mãos. A comida estava boa. Estava realmente boa, embora tenha ficado quase a metade no prato. Havia uma casquinha de ovo e pensei em pedir-me desculpas por isso. Sorri com esse pensamento. Acho que sorri. Devo ter sorrido. Era só uma casquinha.*

*Busquei no silêncio da copa algum inseto, mas eles já haviam todos adormecidos para a manhã de domingo. Então eu falei em voz alta. Precisava ouvir alguma coisa e falei em voz alta. Foi só uma frase banal. Se houvesse alguém perto, diria que eu estava ficando doído. Eu podia dizer o que quisesse. Não havia ninguém para me ouvir. Eu podia rolar no chão, ficar nu, arrancar os cabelos, gemer, chorar, soluçar, perder a fala, não havia ninguém. Eu podia até morrer.*

*De manhã, o padeiro me perguntou se estava tudo bom. Eu sorri e disse que estava. Na rua, o vizinho me perguntou se estava tudo certo. Eu disse que sim e sorri. Também meu patrão me perguntou e eu sorrindo disse que sim. Veio a tarde e meu primo me perguntou se estava tudo em paz e eu sorri dizendo que estava. Depois, sorri e disse que sim, estava tudo azul.*

Vilela, Luiz. Tremor de Terra, 4ª. ed., São Paulo, Ed. Ática, 1977. p. 93.

**01. Em “Passei no bar e comprei um maço de cigarros. Vinte cigarros. Eram os vinte amigos que iam passar a noite comigo”, tem-se um narrador marcado pela**

- A) angústia.                      B) mesmice.                      C) solidão.                      D) inquietude.                      E) tristeza.

**02. Analise as afirmativas abaixo:**

- I.** Ao dizer que a “*rua estava fria*”, o narrador quer dizer que a rua estava sem pessoas que transmitissem calor humano.  
**II.** O narrador fala em voz alta para ouvir alguma voz, já que está sozinho.  
**III.** O primo do narrador pergunta se estava tudo em paz, e o narrador responde extremamente irritado que estava tudo azul.

**Somente está CORRETO o que se afirma na(s) afirmativa(s):**

- A) I.                      B) II.                      C) III.                      D) I e II.                      E) I e III.

**03. O padeiro, o vizinho, o patrão e o primo saudaram a personagem principal**

- A) mecanicamente.                      B) refletidamente.                      C) ironicamente.                      D) resignadamente.                      E) sarcasticamente.

**04. O segundo parágrafo apresenta uma ideia de**

- A) oposição.                      B) repetição.                      C) reiteração.                      D) confirmação.                      E) distração.

**05. O último parágrafo apresenta uma personagem principal de comportamento**

- A) egoísta.                      B) materialista.                      C) pessimista.                      D) realista.                      E) conformado.

**06. O fato de a personagem principal buscar, na copa, algum inseto demonstra uma atitude**

- A) desoladora.                      B) saudosa.                      C) irreverente.                      D) pérfida.                      E) sorrateira.

**07. O texto “Ninguém” é composto por 05 parágrafos. Indique qual deles mostra algo que acontece diariamente.**

- A) 1.                      B) 2.                      C) 3.                      D) 4.                      E) 5.

**08. Assinale a alternativa em que todas as palavras estão separadas CORRETAMENTE.**

- A) bron-quí-o-lo, bron-zea-do.                      D) in-coa-gu-lá-vel, in-clu-so.  
 B) bron-ze-a-do, es-co-a-dou-ro.                      E) ma-ne-i-rar, ma-ne-jo.  
 C) fan-ta-si-ar, fa-la-de-i-ra.

09. “Nesta sala, alguns alunos preferem Caetano Veloso; outros, Luan Santana”. A propósito da pontuação no período, pode-se dizer que

- A) está totalmente correta.
- B) a primeira vírgula não procede.
- C) o ponto-e-vírgula deve ser substituído por vírgula.
- D) a segunda vírgula não está adequada à norma culta.
- E) o ponto-e-vírgula deve ser trocado por dois-pontos.

10. “Podem gritar-me: estou extremamente calmo.” Os dois-pontos (:) do período poderiam ser substituídos por vírgula, explicitando-se o nexos entre as duas orações pela conjunção

- A) e.
- B) como.
- C) portanto.
- D) pois.
- E) embora.

11. No mural do Posto médico, havia o seguinte aviso:

“A visita ao posto de saúde será realizada dia 05 de setembro às 14h. Será assistida uma seção e também será visitada as salas de atendimento ao público. Informe-se com o diretor.”

O texto apresenta problemas de organização, de língua e de grafia. Em que alternativa o texto foi reescrito CORRETAMENTE?

- A) No dia 05 de setembro, às 14h, será realizada uma visita ao posto de saúde, onde será assistida uma seção e também serão visitadas as outras salas do posto. Informe-se com o diretor.
- B) As 14h, no dia 05 de setembro, será realizada uma visita ao posto de saúde, onde será assistida uma seção e também serão visitadas as outras salas do posto. Informe-se com o diretor.
- C) A visita ao posto de saúde será realizada dia 05 de setembro, às 14h. Os visitantes assistirão à uma seção e também visitar-se-á as salas do posto. Informe-se com o diretor.
- D) No dia 05 de setembro, às 14h, será realizada uma visita ao posto de saúde. Além de assistirem a uma sessão, os visitantes poderão visitar as outras salas do posto. Informe-se com o diretor.
- E) A visita ao posto de saúde será realizada no dia 05 de setembro, às 14h. Na ocasião, uma secção será assistida e as demais podem ser visitadas. Se informe com o diretor.

12. Assinale a alternativa cujo emprego da vírgula apresenta a mesma justificativa do exemplo abaixo:

“Apenas seis alunos obtiveram boas notas, aliás, sete.”

- A) “Atentos, os alunos ouviam as explicações do professor”.
- B) “Barriga cheia, pé na areia”.
- C) Com desenvoltura e tranquilidade, o candidato apresentou seu plano de trabalho.
- D) O Corinthians, hoje, poderá ser campeão.
- E) A reunião começou às 20h, digo, às 19h30.

13. Considere as seguintes construções:

- I.** Segue, em anexo, várias requisições solicitados pela loja.  
**II.** Por favor, mais dinheiro e menos cobrança!  
**III.** Ela mesmo teve dignidade suficiente para reconhecer o erro.

Houve inadequação de concordância

- A) somente em I e II.
- B) somente em II e III.
- C) em I, II e III.
- D) somente em I.
- E) somente em II.

14. No tocante à Concordância Verbal, assinale a alternativa que NÃO está de acordo com a norma culta da língua portuguesa.

- A) O medo e o pavor tomaram conta da população.
- B) Fama e celebridade fazem o homem menos livre.
- C) Deu nove horas no relógio da matriz.
- D) Hoje sou eu que lhe peço mais esse favor.
- E) Nós é que vencemos a concordância.

15. “Sei que ainda há muitos desabrigados”. A seguir, apresentam-se reconstruções da frase, ora com o verbo haver, ora com o verbo existir.

- I.** Sei que ainda deverão haver muitos desabrigados.  
**II.** Sei que ainda existirão muitos desabrigados.

- III. *Sei que ainda podem existir muitos desabrigados.*  
IV. *Sei que ainda vai haver muitos desabrigados.*

Somente estão CORRETAS

- A) III e IV.                      B) I e II.                      C) II, III e IV.                      D) I e III.                      E) I e IV.

16. Assinale a opção que preenche CORRETAMENTE a lacuna do enunciado abaixo:

Assim era Leticia \_\_\_\_\_ marido me referi há pouco.

- A) sobre cujo                      B) de cujo                      C) cujo                      D) a cujo                      E) em cujo

17. Observe as seguintes construções:

- I. *Às cinco horas, fui à igreja e assisti ao sermão do padre.*  
II. *Carlos passou o dia à pensar se iria ou não viajar.*  
III. *Beijo à beijo, assim começava nossa história.*  
IV. *Refiro-me à que chegou agora.*  
V. *Aludiu à sua participação.*

Apresenta(m) ERRO quanto à omissão ou presença do sinal indicativo da crase

- A) somente uma das frases.  
B) todas as frases, excetuando-se as de número I, IV e V.  
C) todas as frases de número ímpar.  
D) nenhuma das frases.  
E) todas as frases de número par.

18. “Faz tempo que ele não assiste mais aqui em Recife” O verbo sublinhado está empregado na acepção de

- A) socorrer.                      B) ver.                      C) caber.                      D) residir.                      E) presenciar.

19. Anteponha aos períodos C ou E, consoante a Regência Verbal esteja Certa ou Errada.

- ( ) *Vou na festa a que meus irmãos comparecerão.*  
( ) *Aspirei o perfume das flores.*  
( ) *Chegamos muito cedo no chá de cozinha.*

A sequência obtida foi a seguinte:

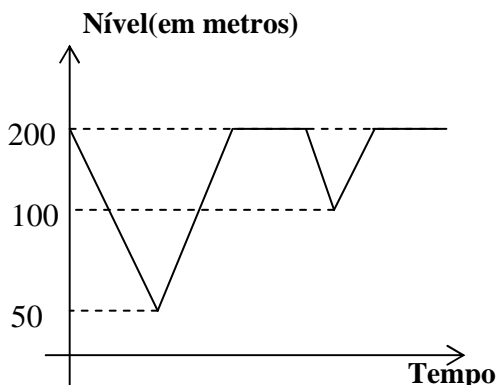
- A) C – C – C.                      B) E – E – E.                      C) E – C – C.                      D) E – C – E.                      E) C – E – C.

20. Assinale a alternativa na qual ambos os termos estão grafados INCORRETAMENTE.

- A) fulijem – mujir.  
B) eleger – reger.                      D) enxoval – mexerico.  
C) jeito – queijeiro.                      E) escassez – limpidez.

## RACIOCÍNIO LÓGICO

21. Devido às intensas chuvas na região Nordeste, fez-se necessário o monitoramento das barragens. O gráfico abaixo indica o nível da água numa determinada barragem de Pernambuco.



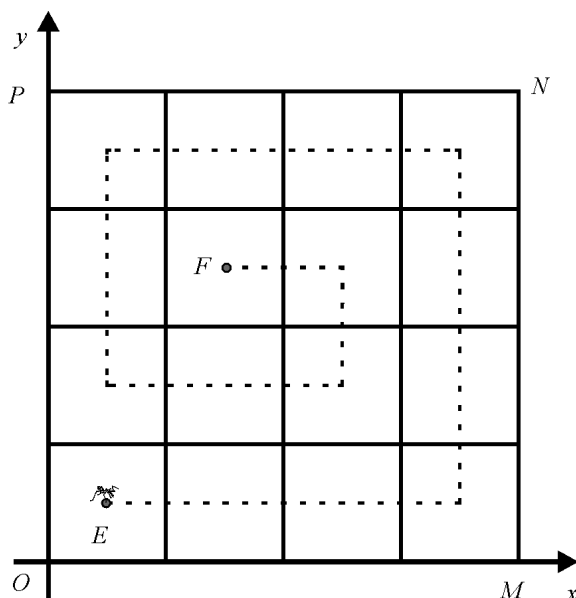
Com base neste gráfico, a Secretaria de Assuntos Hídricos pôde controlar o nível das águas nas barragens. Observando o gráfico, assinale o número de vezes neste período em que foi atingido o nível de 110 metros.

- A) 4  
B) 3  
C) 6  
D) 8  
E) 2

22. Numa corrida de aventura, as equipes são formadas por três atletas. Numa competição, o primeiro atleta, após ter completado  $\frac{1}{2}$  da trajetória estabelecida para o ciclismo, passa o seu bastão para o segundo atleta que completará mais  $\frac{1}{4}$  do total do percurso, quando foi advertido pelo seu técnico para que se poupasse, uma vez que o terceiro atleta não poderá finalizar os 1.500m de natação, pois está contundido. Assim, ele (o segundo atleta) terá que finalizar o restante desta prova. Nesse contexto, conclui-se que o percurso da prova media

- A) 6.000 m.
- B) 5.000 m.
- C) 4.500 m.
- D) 6.500 m.
- E) 5.500 m.

23. Um estudante do curso de biologia pretende determinar a distância percorrida por uma formiga do local onde seleciona o seu alimento até o formigueiro. Para isso, dispõe do gráfico abaixo em que está representado o quadrado  $OMNP$  que se encontra subdividido em 16 quadradinhos, todos de lado 2,0 cm.

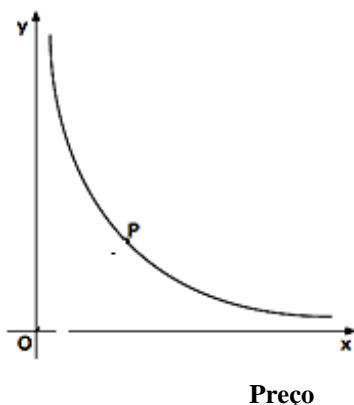


No experimento, uma formiguinha sai do ponto E, andando paralelamente aos eixos e passando pelo centro de cada quadradinho, até o seu formigueiro localizado em F, conforme mostrado na figura. Sabendo-se que passa apenas uma vez em cada ponto do percurso, essa formiguinha percorreu

- A) 24,0 cm.
- B) 23,0 cm.
- C) 22,0 cm.
- D) 23,5 cm.
- E) 30,0 cm.

24.

Consumo



O gráfico acima relaciona o preço de uma mercadoria com o seu consumo. Assinale a alternativa CORRETA, levando em consideração apenas os dados do gráfico supracitado.

- A) Quanto maior o preço de um produto, maior o seu consumo.
- B) Quanto maior o preço de um produto, menor o seu consumo.
- C) O preço não altera o consumo do produto.
- D) O consumo depende da qualidade do produto e não, do preço.
- E) O consumo depende, exclusivamente, da propaganda do produto.

25. Rebeca faz um desafio a Letícia: “Qual a terça parte de  $3^{12} + 3^{10}$ ?”. Assinale a alternativa que corresponde à resposta CORRETA de Letícia.

- A)  $11 \times 3^{11}$                       B)  $12 \times 3^{12}$                       C)  $10 \times 3^9$                       D)  $6 \times 3^5$                       E)  $8 \times 3^7$

26. A caixa d’água de um edifício foi revitalizada, e o engenheiro solicitou ao síndico que trocasse as bombas, pois as atuais estão obsoletas. As bombas compradas pelo síndico enchem o reservatório muito mais rápido e com baixo consumo de energia. Sabe-se que uma delas enche a caixa de água sozinha em 4 horas e a outra, sozinha em 8 horas. Um porteiro por displicência liga as duas simultaneamente para encher essa caixa de água. Estando a caixa d’água vazia, assinale o tempo, em minutos, gasto para que as duas encham o reservatório.

- A) 167 minutos.                      D) 156 minutos.  
B) 163 minutos.                      E) 160 minutos.  
C) 150 minutos.

27. Uma loja anunciou a seguinte promoção: “Geladeira à vista com desconto de 30%”. Admitindo que o preço da geladeira é x reais, assinale o valor pago na compra à vista.

- A) O valor da geladeira será  $0,65 \cdot x$                       D) O valor da geladeira será  $0,85 \cdot x$   
B) O valor da geladeira será  $0,70 \cdot x$                       E) O valor da geladeira será  $1,65 \cdot x$   
C) O valor da geladeira será  $0,69 \cdot x$

28. Uma Padaria promove as seguintes ofertas relativas a manteigas da mesma marca:

- |   |
|---|
| <p>I. Duas embalagens com 250g cada por R\$ 7,00;<br/>II. Três embalagens com 500 g cada por R\$ 21,00;<br/>III. Uma embalagem com 250 g e uma com 500 g por R\$ 10,00.</p> |
|---|

Assinale a alternativa CORRETA.

- A) A oferta I é a melhor.                      D) As ofertas I e III são iguais.  
B) A oferta II é a melhor.                      E) As ofertas II e III são iguais.  
C) A oferta III é a melhor.

29. A soma de três números naturais consecutivos é sempre um número

- A) par.                      B) ímpar.                      C) primo.                      D) quadrado perfeito.                      E) múltiplo de 3.

30. Um automóvel percorre uma distância de 480 km em 02 horas. Quantos quilômetros ele percorrerá em 06 horas?

- A) 1200 km.                      B) 1400 km.                      C) 1600 km.                      D) 1440 km.                      E) 1000 km.

<b>NOÇÕES DE CIDADANIA</b>
----------------------------

31. Sobre o Senso Moral e Consciência Moral, considere as seguintes proposições:

- |  |
|--|
| <p>I. Os sentimentos e as ações morais são aqueles que não dependem de nós mesmos, que nascem da nossa incapacidade de discernir e sermos subservientes, necessitando do coletivo para decidir.<br/>II. Dizem respeito a valores, sentimentos, intenções, decisões e ações referidos ao bem e ao mal, ao desejo de felicidade e ao exercício de liberdade.<br/>III. São constitutivos de nossa existência intersubjetiva, isto é, das nossas relações com outros sujeitos morais.<br/>IV. Referem-se a valores (justiça, honradez, espírito de sacrifício, integridade, generosidade), sentimentos provocados pelos valores (admiração, vergonha, culpa, remorso, cólera, amor, dúvida, medo) e a decisões que conduzam a ações com consequências para nós e para os outros.</p> |
|--|

Estão CORRETAS

- A) somente I, II e III.                      B) somente I, II e IV.                      C) somente I, III e IV.                      D) somente II, III e IV.                      E) I, II, III e IV.

**32. Sobre a Ética ou Filosofia Moral, NÃO é correto afirmar que**

- A) ética e moral referem-se ao conjunto de costumes tradicionais de uma sociedade e que, como tais, são consideradas valores e obrigações para a conduta de seus membros.
- B) a filosofia moral ou a disciplina denominada *A ética* nasce quando se passa a indagar o que são, de onde vêm e o que valem os costumes.
- C) a ética ou filosofia moral nasce quando se busca compreender o caráter de cada pessoa, isto é, o senso moral e a consciência moral individual.
- D) a ética é a parte da filosofia que se ocupa da reflexão a respeito dos fundamentos da vida moral.
- E) ética ou filosofia moral constitui um conjunto de ensinamentos utilizados para subordinar e ordenar a sociedade, submetendo-a às forças coercitivas do Estado para promover a paz e felicidade.

**33. Sobre a moralidade administrativa, analise as proposições abaixo:**

- I. O administrador público deve ter um Código de Conduta, de linguagem simples e acessível, que norteie seu comportamento, enquanto permanecer no cargo, e o proteja de acusações infundadas.
- II. A moralidade administrativa constitui-se, atualmente, de pressuposto de validade de todo ato da administração pública.
- III. A moral administrativa é imposta ao agente público para sua conduta, segundo as exigências da instituição a que serve, e a finalidade de sua ação: o bem comum.
- IV. Ao atuar, o administrador público não pode desprezar o elemento ético de sua conduta.

**Estão CORRETAS**

- A) somente I e III.      B) somente II e IV.      C) somente I, III e IV.      D) somente II, III e IV.      E) I, II, III e IV.

**34. Segundo Gilberto Dimenstein, nota-se a ausência de cidadania quando uma sociedade gera um menino de rua (*livro cidadão de papel*). Cidadania é**

- I. o direito de viver decentemente.
- II. poder votar em quem quiser sem constrangimento.
- III. o direito de ter uma ideia e poder expressá-la.
- IV. processar um médico que comete um erro.

**Estão CORRETAS**

- A) somente I, II e III.      B) somente I, II e IV.      C) somente I, III e IV.      D) somente II, III e IV.      E) I, II, III e IV.

**35. Os valores da cidadania são, EXCETO**

- A) Equidade.      B) Bem comum.      C) Justiça.      D) Heteronomia.      E) Igualdade.

**36. Sobre a postura do servidor público, considere as seguintes proposições:**

- I. A dignidade, o decoro, o zelo, a eficácia e a consciência dos princípios morais são primados maiores que devem nortear o servidor público, seja no exercício do cargo ou função ou fora dele.
- II. A conduta do servidor deve-se limitar à distinção entre o bem e o mal, devendo ter consciência de que o fim nem sempre é o bem comum, mas, a harmonia dos trabalhadores do serviço público.
- III. Toda pessoa tem direito à verdade. O servidor público, entretanto, poderá omiti-la ou falseá-la para garantir a estabilidade na administração pública.
- IV. O trabalho desenvolvido pelo servidor público perante a comunidade deve ser entendido como acréscimo ao seu próprio bem-estar, já que, como cidadão integrante da sociedade, o êxito desse trabalho pode ser considerado como seu maior patrimônio.

**Estão CORRETAS**

- A) somente I e II.      B) somente I e III.      C) somente I e IV.      D) somente II e III.      E) I, II, III e IV.

**37. Sobre a Ética, considere as seguintes proposições:**

- I. As normas éticas são de grande importância para a sociedade, por definirem e estruturarem a hierarquia social e inibirem a mobilidade, causadora de tumultos e desobediência civil.
- II. A ética é normativa exatamente porque suas normas determinam permissões e proibições e visam impor limites e controles aos riscos permanentes da violência.

- III.** Para que haja conduta ética, é preciso que exista o agente consciente, isto é, aquele que conhece a diferença entre o bem e o mal, o certo e o errado, o permitido e o proibido, a virtude e o vício.
- IV.** Além do sujeito ou pessoa moral e dos valores ou fins morais, o campo ético é, ainda, constituído de um outro elemento: os meios para que o sujeito realize os fins. Desse modo, é verdadeiramente válida e aceitável para a ética a premissa de que os fins justificam os meios.

**Estão CORRETAS**

- A) somente I e II.      B) somente II e III.      C) somente I, II e III.      D) somente II, III e IV.      E) I, II, III e IV.

**38. São condições para o existir do agente moral, EXCETO:**

- A) Deixar-se governar, ser passivo.  
B) Ser consciente de si e dos outros.  
C) Reconhecer-se como autor da ação, respondendo por ela, ser responsável.  
D) Ter capacidade para controlar e orientar desejos, impulsos, tendências, paixões, ser dotado de vontade.  
E) Ter poder para autodeterminar-se, dando a si mesmo as regras de conduta, ser livre.

**39. Os códigos de ética trazem, em seu conteúdo, o conjunto de normas a serem seguidas e as penalidades aplicáveis no caso do não cumprimento destas. Sobre as normas do código de ética do serviço público, analise as afirmativas abaixo:**

- I.** É dever do servidor ser cortês, atencioso, respeitoso com os usuários dos serviços públicos.  
**II.** O servidor deve ser rápido, assíduo, leal, correto e justo, escolhendo sempre aquela opção que beneficie o maior número de pessoas.  
**III.** O funcionário deve agir com dignidade, decoro, zelo e eficácia, para preservar a honra do serviço público.  
**IV.** A função do servidor deve ser exercida com transparência, competência, seriedade e compromisso com o bem-estar da coletividade.

**Estão CORRETAS**

- A) somente I e IV.      D) somente III e IV.  
B) somente I, III e IV.      E) I, II, III e IV.  
C) somente II, III e IV.

**40. Uma exigência básica à atitude e ao comportamento ético é a(o)**

- A) amoralidade de conduta.      D) conflito de interesses.  
B) responsabilidade social.      E) eliminação de hierarquia.  
C) individualismo utilitário.