

**SERVIÇO SOCIAL DO COMÉRCIO - SESC/PE
PROCESSO SELETIVO EXTERNO**

DADOS DE IDENTIFICAÇÃO DO CANDIDATO

Não deixe de preencher as informações a seguir:

<i>Prédio</i>			<i>Sala</i>
<i>Nome</i>			
<i>Nº de Identidade</i>	<i>Órgão Expedidor</i>	<i>UF</i>	<i>Nº de Inscrição</i>

TÉCNICO EM SAÚDE BUCAL

ATENÇÃO

- *Abra este Caderno, quando o Fiscal de Sala autorizar o início da Prova.*
- *Observe se o Caderno está completo. Ele deverá conter 40 (quarenta) questões objetivas de múltipla escolha com 05 (cinco) alternativas cada, sendo 10 (dez) de Língua Portuguesa, 10 (dez) de Matemática e 20 (vinte) de Conhecimentos Específicos.*
- *Se o Caderno estiver incompleto ou com algum defeito gráfico que lhe cause dúvidas, informe, imediatamente, ao Fiscal.*
- *Uma vez dada a ordem de início da Prova, preencha, nos espaços apropriados, o seu Nome completo, o Número do seu Documento de Identidade, a Unidade da Federação e o Número de Inscrição.*
- *Para registrar as alternativas escolhidas nas questões objetivas de múltipla escolha, você receberá um Cartão-Resposta de Leitura Ótica. Verifique se o Número de Inscrição impresso no Cartão coincide com o seu Número de Inscrição.*
- *As bolhas constantes do Cartão-Resposta devem ser preenchidas totalmente, com caneta esferográfica azul ou preta.*
- *Preenchido o Cartão-Resposta, entregue-o ao Fiscal e deixe a sala em silêncio.*

Texto 01 para as questões de 01 a 04.

SESC Ler

Os Centros Educacionais Sesc Ler fazem parte de um programa de educação integrada à cidadania. Sua concepção pedagógica utiliza os conhecimentos prévios dos próprios alunos para construção do aprendizado. Com isso, busca-se o fortalecimento da capacidade intelectual, estimulando a formação da autonomia e de uma consciência crítica sobre suas relações com o meio físico, cultural, social e político.

Instalados em municípios com baixo IDH – Índice de Desenvolvimento Humano, o Sesc Ler contribui com o poder público para minimizar os números do analfabetismo no Brasil, servindo como referência para que outras instituições possam também abraçar esta causa.

Em Pernambuco, os Centros Educacionais Sesc Ler oferecem:

- EJA (Educação de Jovens e Adultos) – alfabetização 1º e 2º ciclo
- Educação Infantil
- Ensino Fundamental I (1ª a 4ª série)
- PHE (Projeto Habilidades de Estudo)
- Investimento da formação continuada dos educadores
- Trabalho com Grupos da Terceira Idade

Os Centros Educacionais Sesc Ler têm um projeto arquitetônico despojado com:

- Salas de aula dotadas de iluminação e ventilação adequadas
- Biblioteca com acervo atualizado e informatizado
- Laboratório de Informática
- Refeitório
- Espaço de convivência
- Quadras Poliesportivas
- Parque aquático, com piscina semiolímpica e infantil
- Campo de futebol oficial

Todos esses espaços contribuem para o desenvolvimento de um trabalho de excelência didático-pedagógica, integrando os objetivos curriculares às demais atividades que o Sesc desenvolve nas áreas de cultura, lazer, saúde e assistência. Dessa forma, o Sesc Ler recebe periodicamente exposições de artes plásticas, espetáculos de teatro e dança, cursos de capacitação profissional, assistência odontológica através do projeto OdontoSesc.

Disponível em: www.sesc-pe.com.br

**01. Após a leitura do texto, conclui-se que**

- A) a implementação do Sesc Ler favoreceu o incremento do analfabetismo.
- B) as ações desenvolvidas pelo Sesc Ler são imitadas por outras instituições.
- C) esse tipo de centro educacional contribui para o egresso no ensino superior.
- D) as ações do Sesc Ler não se destinam a idosos.
- E) dentre várias de suas ações, os centros educacionais do Sesc Ler estimulam o segmento artístico-cultural.

02. Em uma das passagens do texto, declara-se que o SESC Ler se preocupa em realizar ações qualitativas no segmento educacional. Assinale a alternativa cujo texto reflete essa mensagem.

- A) "...o Sesc Ler recebe periodicamente exposições de artes plásticas..."
- B) "Os Centros Educacionais Sesc Ler fazem parte de um programa de educação integrada à cidadania"
- C) "Todos esses espaços contribuem para o desenvolvimento de um trabalho de excelência didático-pedagógica..."
- D) "... estimulando a formação da autonomia e de uma consciência crítica..."
- E) "Sua concepção pedagógica utiliza os conhecimentos prévios dos próprios alunos..."

03. Observe o trecho abaixo:

"Sua concepção pedagógica utiliza os conhecimentos prévios dos próprios alunos para construção do aprendizado. Com isso, busca-se o fortalecimento da capacidade intelectual, estimulando a formação da autonomia e de uma consciência crítica sobre suas relações com o meio físico, cultural, social e político."

Sobre ele, está CORRETO o que se afirma na alternativa

- A) O projeto político-pedagógico do Sesc Ler deprecia os conhecimentos adquiridos anteriormente.
- B) Nos centros educacionais do Sesc Ler, para fins de aprendizagem, resgatam-se e consideram-se os conhecimentos anteriores que o aluno porta consigo.

- C) Nem sempre, o aluno participante do programa Sesc Ler é preservado de seus conhecimentos anteriormente adquiridos, para que a aprendizagem seja uma realidade em sua vida.
- D) Para o aprendizado, é de vital importância que todo centro educacional considere e reconheça os conhecimentos que o aluno já carrega consigo.
- E) Em alguns centros, a concepção pedagógica se faz valer dos conhecimentos dos alunos, sobretudo daqueles que se voltam ao cenário político.

04. Em qual das alternativas, existe uma mensagem que NÃO foi declarada no texto ?

- A) O Sesc realiza ações voltadas a diversas áreas, dentre elas, saúde e lazer.
- B) O analfabetismo é uma das metas do Sesc Ler, estando quase erradicado do cenário brasileiro.
- C) Os objetivos curriculares são integrados às ações desenvolvidas pelo SESC em diversas áreas.
- D) Quadras poliesportivas compõem o projeto arquitetônico dos centros educacionais Sesc Ler.
- E) O analfabetismo no Brasil é algo que preocupa não somente o Sesc Ler como também o poder público.

05. Observe os itens abaixo:

- I. "A gente tropeça sempre nas pedras pequenas, porque as grandes a gente logo enxerga" (Provérbio japonês)
- II. "Se quiser conhecer um cavalo, monte nele; se quiser conhecer uma pessoa, conviva com ela." (Provérbio japonês)
- III. "Endireite o galho, enquanto a árvore é nova." (Provérbio japonês)

Sobre os termos neles sublinhados, é CORRETO o que se afirma em

- A) No item I, o termo exprime relação de concessão.
- B) No item II, o termo poderia ser substituído por "uma vez que", sem causar prejuízo de sentido à oração.
- C) No item III, o termo exprime circunstância temporal.
- D) Tanto o termo do item I com o do item III poderiam ser substituídos por "se bem que".
- E) O termo do item II exprime relação de oposição.

06. Definindo-se Intertextualidade, tem-se que

- A) ela ocorre mediante a fusão de alguns textos que abordem a mesma temática.
- B) é a relação que se estabelece entre dois textos, quando um deles faz referência a elementos existentes no outro.
- C) a sua existência está atrelada a elementos que se repetem em situações diversas, não importando a natureza do texto nem a sua finalidade.
- D) ela independe de fatores que justifiquem a mesma temática, contemplando realidades diversas em uma multiplicidade de cenários.
- E) é a relação existente entre textos de mesmo gênero que contemplem temáticas similares e abordem cenários idênticos.

TEXTO 02 para as questões de 07 a 09.

LÍNGUA: PRA QUE TE QUERO?

Gestos, desenhos, movimentos, símbolos, palavras, silêncio... O ser humano dispõe de diferentes linguagens para se comunicar com o mundo e com as pessoas. No entanto, parece que a palavra tem sido o instrumento preferido para objetivar seu pensamento, interagir com o outro e se fazer compreender.

CEREJA, William Roberto e MAGALHÃES, Thereza Cochar. *Gramática Reflexiva*. Atual Editora. 1999. p.01.

07. Tomando-se o trecho: "No entanto, parece que a palavra tem sido o instrumento...", se o conector "no entanto" fosse substituído por "enquanto",

- A) estaria se cometendo um erro de incoerência textual.
- B) a coesão textual estaria comprometida, uma vez que o conector "enquanto" não expressa a mesma relação que "no entanto".
- C) gramaticalmente, o trecho estaria correto, uma vez que os conectores expressam a mesma relação de oposição.
- D) a coesão textual estaria preservada; a intertextualidade seria, de fato, evidente.
- E) tanto a coerência como a coesão textuais estariam preservadas.

08. Segundo o texto 02,

- A) na comunicação, a palavra assume posição de pouca essencialidade.
- B) no processo comunicativo, a interação promove comunicações imperfeitas, porque o homem é insipiente quanto ao uso das linguagens.
- C) são escassas as linguagens das quais o homem se utiliza para se comunicar, embora sejam elas de fácil manuseio.
- D) apesar da multiplicidade de linguagens no processo comunicativo, o homem recorre mais à palavra.
- E) as diversas linguagens favorecem a comunicação, e, de modo irrefutável, o homem se utiliza, no cotidiano, quase exclusivamente, de símbolos e gestos.

09. Sobre gêneros textuais,

- A) o editorial é um gênero textual informativo cuja função é a de informar o leitor a respeito de uma notícia.
- B) emails, blogs, chats são gêneros textuais que refletem uma sociedade do século passado.
- C) são tipos específicos de textos sempre de natureza literária.
- D) estão desvinculados das práticas sociais.
- E) são as estruturas com que se compõem unicamente os textos orais.

10. Atente para a música abaixo:

<p>Bom Conselho (Chico Buarque, 1972)</p> <p><i>Ouçá um bom conselho Que eu lhe dou de graça Inútil dormir que a dor não passa Espere sentado Ou você se cansa Está provado, quem espera nunca alcança Venha, meu amigo Deixe esse regaço Brinque com meu fogo Venha se queimar Faça como eu digo Faça como eu faço Aja duas vezes antes de pensar Corro atrás do tempo Vim de não sei onde Devagar é que não se vai longe Eu semeio vento na minha cidade Vou pra rua e bebo a tempestade</i></p>

Sobre ela, assinale a alternativa que contém uma afirmativa CORRETA.

- A) Existem nela problemas de coesão textual.
- B) Há nela passagens em que se percebe incoerência textual.
- C) Trata-se de um gênero textual do tipo informativo.
- D) Nela, é evidente a existência de intertextualidade.
- E) Chico Buarque inverte os provérbios, mantendo o sentido original

MATEMÁTICA

11. Carlos recebia R\$ 1 200,00 de salário mensal. Em agosto, ele recebeu um reajuste salarial de 12% que deverá ser pago em setembro. Qual o salário que Carlos receberá no mês de setembro?

- A) R\$1244,00
- B) R\$ 1344,00
- C) R\$ 1420,00
- D) R\$ 1530,00
- E) R\$ 1250,00

12. Qual a possibilidade de se ter duas vezes o número 4 em duas jogadas de um dado não viciado?

- A) 1/3
- B) 1/6
- C) 1/18
- D) 1/36
- E) 1/27

13. Se o comprimento do raio de um círculo é aumentado em 30% de seu valor, então a sua área aumenta em

- A) 60%
- B) 69%
- C) 80%
- D) 35%
- E) 43%

14. Uma máquina que, trabalhando sem interrupção, fazia 90 fotocópias por minuto foi substituída por outra 50% mais veloz. Suponha que a nova máquina tenha que fazer o mesmo número de cópias que a antiga, em uma hora de trabalho ininterrupto, fazia. Para isso, a nova máquina vai gastar um tempo mínimo, em minutos, de

- A) 25
- B) 30
- C) 35
- D) 40
- E) 45

15. Em uma festa, a razão entre o número de rapazes e o número de moças é $\frac{2}{3}$. Se, na festa, estão presentes 40 rapazes, quantas moças compareceram à festa?

- A) 50 B) 70 C) 60 D) 80 E) 55

16. Em uma cidade, circulam os jornais A e B. O número de habitantes que assinam, pelo menos, um jornal é 1200, o dos que assinam o jornal A é 900 habitantes, e o do jornal B é 500. É CORRETO afirmar que o número de habitantes que assinam os dois jornais é igual a

- A) 200 B) 300 C) 100 D) 150 E) 220

17. Um pai reparte uma certa quantia entre seus três filhos. A divisão é feita em partes proporcionais às idades dos filhos. Sabendo-se que as idades dos filhos são números inteiros consecutivos e que o mais novo tem 3 anos e recebeu R\$ 3000,00, é CORRETO afirmar que a quantia repartida foi

- A) R\$12000,00 B) R\$ 120000,00 C) R\$ 20000,00 D) R\$ 10000,00 E) R\$ 22000,00.

18. O perímetro de um triângulo isósceles mede 30 cm, e a base mede 10 cm. É CORRETO afirmar que sua área, em centímetros quadrados, mede

- A) $\frac{15\sqrt{3}}{2}$ B) $25\sqrt{3}$ C) $\frac{125\sqrt{3}}{4}$ D) $125\sqrt{3}$ E) 100

19. Dois lados de um triângulo medem 4 m e 3 m. Se o ângulo formado por eles mede 90° , é CORRETO afirmar que sua área, em metros quadrados, mede

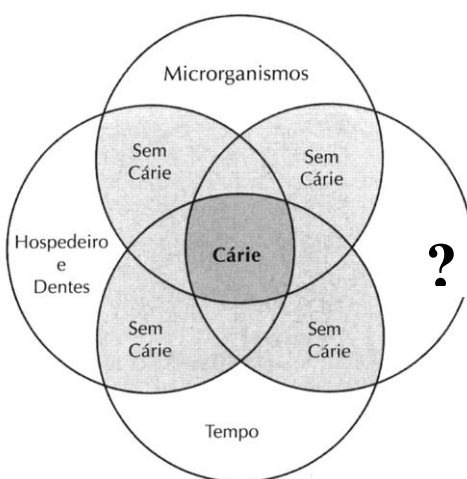
- A) 12 B) 6 C) 18 D) 27 E) 15

20. Um tanque de água tem capacidade de 5 000 litros, então a sua capacidade pode ser representada por

- A) 5 dm^3 B) 500 cm^3 C) 5000 m^3 D) 5 m^3 E) 500 m^2

CONHECIMENTOS ESPECÍFICOS

21. A cárie é caracterizada como uma doença multifatorial. Na figura a seguir, os quatro círculos representam os parâmetros envolvidos no processo de cárie. Todos os fatores devem agir concomitantemente, para a cárie ocorrer. Na figura abaixo, o círculo indicado pela interrogação (?) corresponde



- A) ao flúor.
 B) às bactérias.
 C) ao substrato.
 D) à escovação dentária.
 E) ao tipo de tratamento

22. O ambiente do consultório odontológico apresenta diferentes áreas de contaminação, que devem ser, especialmente, tratadas durante a efetivação do processo de descontaminação. Considerando o nível de contaminação, pode-se dividi-las em: área crítica, área semicrítica e área não crítica. É considerada como área crítica

- A) o refletor.
 B) a unidade auxiliar.
 C) o aparelho de raios-X.
 D) o interruptor para o controle da cadeira.
 E) a cadeira.

23. Os estudos do último levantamento epidemiológico sobre saúde bucal do Ministério da Saúde (2010) trouxeram resultados mais positivos sobre as condições de saúde da população brasileira. Por exemplo, o índice CPO-D médio de crianças de 12 anos foi de 2,1. Esse índice representa a média do número de

- A) dentes traumatizados.
- B) visitas ao dentista no último ano.
- C) dentes afetados pela cárie.
- D) dentes afetados pela doença periodontal.
- E) dentes que necessitam de tratamento.

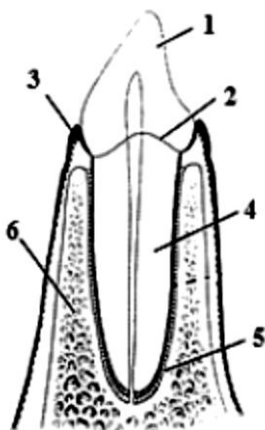
24. Em 2008, o então presidente Luís Inácio Lula da Silva sancionou a Lei n. 11.889, que regulamenta o exercício profissional do TSB e ASB no Brasil. Segundo essa Lei, é permitido ao TSB

- A) remover suturas.
- B) usar pontas diamantadas.
- C) fazer ajuste oclusal.
- D) administrar anestésico local.
- E) extrair dentes decíduos.

25. Os músculos são elementos ativos do movimento, atuando sobre os ossos e as articulações, movimentando o corpo. Os músculos da mastigação são aqueles que se inserem na mandíbula, movendo-a. Constituem músculos da mastigação:

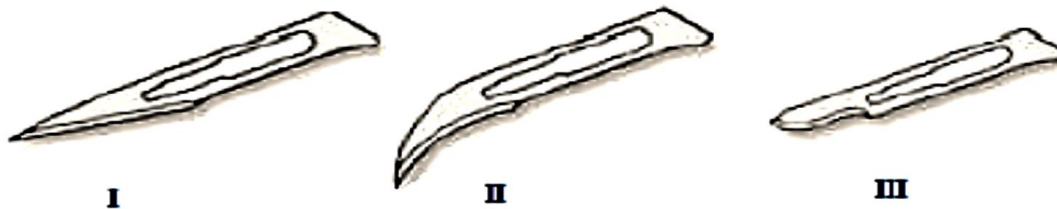
- A) masseter, pterigoideo medial, pterigoideo lateral, temporal.
- B) depressor do ângulo da boca, masseter, temporal, zigomático menor.
- C) frontal, masseter, levantador do lábio superior, temporal.
- D) pterigoideo medial, pterigoideo lateral, levantador do lábio superior.
- E) mental, pterigoideo medial, zigomático menor, zigomático maior.

26. Reconheça, no desenho abaixo, as estruturas marcadas pelos algarismos arábicos. A alternativa que contém a frase que se encontra exata é a



- A) 1 corresponde à parte radicular do elemento dentário.
- B) 4 corresponde à parte coronária do elemento dentário.
- C) 4, 5 e 6 são componentes do periodonto.
- D) 1, 2 e 4 são componentes do periodonto.
- E) 3, 5 e 6 são componentes do periodonto.

27. Considerando que a figura abaixo apresenta o desenho das lâminas de bisturi mais utilizadas em cirurgias odontológicas, os números romanos I, II e III representam, respectivamente, as seguintes lâminas:



- A) 12, 11 e 15.
- B) 12, 13 e 15.
- C) 10, 11 e 12.
- D) 11, 12 e 13.
- E) 11, 12 e 15.

28. Devem ser adotadas boas práticas de precaução com a utilização do mercúrio, e elas incluem

- A) uso de técnica com contato manual.
- B) uso de amalgamadores mecânicos sem vedação.
- C) armazenagem do mercúrio e do amálgama antigo em água, em recipiente inquebrável, fechado hermeticamente.
- D) limpeza tardia do mercúrio derramado.
- E) deglutição dos resíduos do amálgama durante as trocas de restaurações.

29. Com relação aos equipamentos de proteção individual, todas as alternativas abaixo estão corretas, EXCETO:

- A) O avental sujo deve ser transportado em sacos impermeáveis e lavado separadamente das outras roupas de uso pessoal.
- B) As luvas para limpeza geral devem ser de borracha grossa, utilizadas para serviços de limpeza e descontaminação de instrumentais.
- C) Os óculos comuns de grau podem ser substituídos pelos óculos de proteção, desde que estes sejam descontaminados após o uso em cada paciente.
- D) As luvas de látex oferecem boa adaptação e são utilizadas em procedimentos clínicos de dentística, prótese, periodontia, dentre outros.
- E) O uso de máscara descartável com paredes duplas ou triplas é fundamental para a proteção contra a inalação ou ingestão de aerossóis pelos profissionais e na transmissão de microrganismos para o paciente.

30. As embalagens utilizadas em autoclave para esterilizar os instrumentais odontológicos devem

- A) ser impermeáveis e livres de resíduos tóxicos.
- B) evitar liberação de fibras e partículas.
- C) ser compatíveis com as dimensões do artigo.
- D) servir de barreiras antimicrobianas.
- E) resistir a rasgos.

31. Os serviços de Odontologia têm sido organizados racionalmente e com um objetivo social, apoiando-se no(a)(s)

- A) filosofia preventiva, com a visão restrita de “evitar a doença”.
- B) entendimento dos diferentes níveis de prevenção, com a doutrina atual de “prevenir um mal maior”.
- C) conceitos de que apenas se previne em crianças.
- D) atendimento somente a doenças já instaladas.
- E) reconhecimento da impossibilidade de prevenir as doenças.

32. A ergonomia visa à simplificação do trabalho, prevenção da fadiga física e mental dos operadores e pacientes, obtendo maior rendimento e conforto para os profissionais. Seus princípios baseiam-se na organização e distribuição adequada dos elementos de trabalho. Sobre isso, é INCORRETO afirmar que

- A) as posições de trabalho do dentista e Técnico em Saúde Bucal são convencionalmente determinadas por um círculo que simula os ponteiros de um relógio.
- B) na posição zero (de doze horas), o operador trabalha com visão direta da arcada inferior.
- C) os mochos do dentista e auxiliar devem ser macios para que a coluna vertebral não fique arqueada e em posição de desconforto.
- D) durante o trabalho realizado na boca, o ideal é que o operador só execute movimento com os dedos, punhos e cotovelos.
- E) para que o trabalho sentado seja considerado ergonomicamente correto, há de se trabalhar com as costas relativamente retas e apoiadas no encosto do mocho e os pés completamente apoiados no solo.

33. Sobre os procedimentos com o lixo, é CORRETO afirmar que

- A) o lixo pérfuro-cortante deve ser acondicionado em recipientes específicos, com proteção dupla, preenchendo, apenas, dois terços do seu volume, como descrito nas embalagens.
- B) o lixo comum é composto de restos de embalagens, material de escritório, da cozinha, sendo recolhido juntamente com o lixo contaminado.
- C) o lixo contaminado é composto de tudo que entrou em contato com fluidos, como sangue e saliva, de acordo com as normas da ABNT, com sacos contendo até um quarto de seu conteúdo.
- D) o procedimento de reempacamento de agulhas deve ser sempre feito antes de descartá-las nos recipientes de lixo pérfuro-cortantes, de maneira mais criteriosa possível, pois é considerado um dos atos mais propensos a provocar acidentes.
- E) revelador e fixador de RX podem ser despejados no esgoto, bastando, apenas, e com relação, ao revelador, diluí-lo em água e vinagre.

34. Um TSB integrante da Equipe de Saúde da Família é designado para realizar trabalho educativo de saúde bucal com gestantes. Em relação a esse trabalho, analise as seguintes afirmativas e assinale a INCORRETA.

- A) O profissional deve evidenciar a placa bacteriana, fazer escovação supervisionada com escova, pasta e fio dental estimulando o autocuidado da gestante.
- B) O profissional deve educar a futura mãe com ênfase na prevenção da *cárie de mamadeira*, estimulando o aleitamento materno e a limpeza dos dentes do bebê com gaze, assim que irromperem na boca.
- C) O profissional deve orientar a gestante para utilizar adoçantes não calóricos como alternativa para os açúcares cariogênicos da dieta.
- D) O profissional deve educar a gestante com ênfase nos hábitos nocivos para o desenvolvimento da oclusão do bebê, como uso incorreto de chupetas e sucção de dedo.
- E) O profissional deve educar a gestante no sentido de evitar maus hábitos alimentares, pois, a partir do quarto mês de gestação, o bebê já está formando seu paladar e perceberá a frequência com que sua mãe ingere certos alimentos.

35. Em relação aos procedimentos indicados para desinfecção dos modelos e próteses, assinale a alternativa INCORRETA.

- A) As siliconas são desinfetadas por imersão com glutaraldeído a 2% por 10 minutos.
- B) Os alginatos são desinfetados por fricção ou imersão com glutaraldeído a 2% ou hipoclorito de sódio a 1% por 10 minutos.
- C) O gesso é desinfetado por imersão com glutaraldeído 2% por 10 minutos.
- D) Prótese de acrílico é desinfetada por imersão com hipoclorito de sódio a 1% por 10 minutos.
- E) Todos os materiais devem ser lavados em água corrente, antes do processo de desinfecção, para remoção dos resíduos orgânicos.

36. São produtos utilizados para a antissepsia das mãos, EXCETO

- A) Álcool a 70%.
- B) Clorexidina a 4%.
- C) Hipoclorito de sódio a 1%.
- D) Triclosan.
- E) Para-Cloro-Meta-Xylenol.

37. O ambiente odontológico possibilita que o ar seja uma via potencial de transmissão de microorganismos por meio das gotículas e dos aerossóis que podem contaminar diretamente o profissional ao atingirem a pele e a mucosa, por inalação ou ingestão ou indiretamente, quando contaminam as superfícies. Assinale a opção CORRETA quanto aos procedimentos usados para diminuir o risco de transmissão aérea.

- A) Usar o dique de borracha, sempre que o procedimento permitir.
- B) Evitar o uso da seringa tríplice na sua forma spray, acionando os dois botões ao mesmo tempo.
- C) Higienizar previamente a boca dos pacientes mediante escovação e/ou bochecho com antisséptico.
- D) Manter o ambiente ventilado.
- E) Não retirar a máscara antes do final do expediente.

38. Os profissionais da área de saúde, por estarem mais expostos, possuem um risco elevado de aquisição de doenças infecciosas, devendo estar devidamente imunizados. São vacinas importantes para os profissionais da Odontologia, EXCETO:

- A) Vacina contra Hepatite C.
- B) Vacina BCG – ID.
- C) Vacina contra Influenza.
- D) Vacina SRC.
- E) Vacina DT.

39. Assinale a alternativa INCORRETA quanto ao controle de estoque dos materiais odontológicos.

- A) O Técnico em Saúde Bucal deve controlar o estoque dos materiais, confiando em sua memória.
- B) O controle adequado do estoque evitará a falta do material.
- C) O controle do estoque deve informar a data da última compra e a data de retirada do produto do estoque.
- D) O controle do estoque permite saber quanto dura cada produto.
- E) O controle de estoque, numa análise mais profunda, pode informar quantos procedimentos foram realizados com determinada quantidade de material.

40. Analise as seguintes afirmativas sobre a organização do ambiente e o trabalho em equipe e assinale aquela que NÃO consiste em atribuição do TSB.

- A) Manter manual com todas as informações referentes ao funcionamento do consultório, cópias de impressos emitidos pelo consultório, descrição de horários de atendimento e dos equipamentos da clínica.
- B) Apoiar processos de educação permanentes, voltados para o auxiliar de consultório dentário, os agentes comunitários de saúde e agentes de limpeza.
- C) Ser morador do bairro ou da região de abrangência e ir de casa em casa, anotando tudo o que pode ajudar a saúde da comunidade.
- D) Interagir com a equipe de saúde no enfrentamento dos problemas de saúde bucal.
- E) Realizar a atenção integral em saúde bucal (promoção, prevenção, assistência e reabilitação) individual e coletiva a todas as famílias, a indivíduos e a grupos específicos, segundo programação e de acordo com suas competências técnicas e legais.