

PORTUGUÊS

TEXTO 01 (questão 01)

Disponível em: <https://www.google.com.br/search?q=charges+engraçadas+sobre+frio&newwindow>

01. Em "Volta às aulas", os termos sublinhados indicam exemplo de

- A) concordância verbal.
 B) concordância nominal.
 C) regência nominal.
 D) regência verbal.
 E) inversão de termos na oração.

TEXTO 02 (questões de 02 a 05)

"O poeta oferece à imaginação imagens da vida, personagens e situações, põe tudo isso em movimento e deixa cada um levar seu pensamento tão longe quanto sua força espiritual lhe permite. Desse modo, consegue satisfazer tolos e sábios."

Arthur Schopenhauer
 filósofo alemão
 (1788-1860)
Parerga e Paralipomena - escritos filosóficos menores
 netmundi.org/pensamentos

02. No tocante à PONTUAÇÃO,

- A) estaria correto também se, após o termo "movimento", fosse colocada uma vírgula.
 B) a vírgula após o termo "situações" poderia ser substituída por um ponto, e isso não implicaria desobediência às normas gramaticais.
 C) se a vírgula após o termo "modo" fosse permutada por ponto-e-vírgula, isso não caracterizaria erro gramatical.
 D) estaria também correto se após o termo "permite" fosse colocada uma exclamação.
 E) a vírgula após o termo "vida" isola orações coordenadas.

03. Sobre o texto 02, assinale a alternativa CORRETA.

- A) O verbo "oferecer" exige, apenas, um complemento, e este vem regido de preposição.
 B) A forma verbal "permite" exige um complemento não regido de preposição, denominado objeto direto.
 C) O verbo "satisfazer" exige, apenas, complemento, e este não vem regido de preposição.
 D) A forma verbal "põe" exige dois complementos: um regido de preposição e o outro sem ser regido.
 E) O verbo "levar" não pede complemento.

04. Segundo Schopenhauer,

- A) o poeta desagradava exclusivamente os detentores de sabedoria.
- B) a inspiração do poeta se baseia em fatos irreais.
- C) a estaticidade faz parte do perfil do poeta.
- D) cada leitor é induzido pelo poeta a “dar asas” ao seu pensamento.
- E) para ser poeta, é preciso ser um pouco sábio e um pouco tolo.

05. Se, no texto 02, o termo POETA estivesse no plural, mantendo-se os tempos verbais, estaria CORRETO o texto indicado na alternativa

- A) Os poetas ofereceriam à imaginação imagens da vida.
- B) Punham tudo isso em movimento.
- C) E deixavam cada um levar seu pensamento.
- D) Quanto sua força espiritual lhe permitisse.
- E) Desse modo, conseguem satisfazer tolos e sábios.

TEXTO 03 (questões 06 e 07)

A origem do topônimo Garanhuns é muito controversa, havendo várias versões. O lexicógrafo José de Almeida Maciel, em seu livro “Questões de Toponímia Municipal” refere-se a guirá-nhum, os pássaros pretos, nome de uma tribo existente no local.

Segundo o professor João de Deus Oliveira Dias (citado na Documentação Territorial Brasileira, do IBGE), o termo vem do nome de uma tribo cairu, da nação cariri ouquiriri, corruptela de Guiranhú ou Unhannhum, derivados de guirá ou guará (ave vermelha pernalta, aquática) e anhu ou anhum (anum, pássaro preto), espécies que habitavam o vale do rio Mundaú, perto da sua nascente, local da primitiva aldeia.

Por outro lado, o lexicógrafo Sebastião de Vasconcelos Galvão, em seu “Dicionário Corográfico, Histórico e Estatístico de Pernambuco”, diz que é uma palavra de origem indígena que significa “sítio de guarás e anuns”, formado de guarás (espécie de cão selvagem) e anuns (ave tida como agoureira).

Disponível em: <http://pt.wikipedia.org/wiki/Garanhuns>

06. Sobre o texto 03, mais especificamente acerca da origem do topônimo Garanhuns, assinale a alternativa CORRETA.

- A) Apresenta uma versão única.
- B) Para o prof. João de Deus, o termo se referia a espécies que habitavam o vale do Mundaú.
- C) Segundo Sebastião Galvão, provinha de uma tribo cairu.
- D) José Maciel atribuiu o termo a *guirá-nhum*, tribo existente no local.
- E) João de Deus afirmava ser o termo referente a *guirá-nhum*, pássaros pretos.

07. Sobre ACENTUAÇÃO, analise as afirmativas abaixo:

- I. "A origem do topônimo Garanhuns é muito controversa, havendo várias versões." - quanto às palavras acentuadas, tem-se: a primeira se acentua por ser proparoxítona e a segunda, por ser paroxítona terminada em hiato.
- II. "e anhu ou anhum (anum, pássaro preto), espécies que habitavam o vale do rio Mundaú" - a última palavra deste trecho é acentuada pelo fato de o "u" formar ditongo tônico.
- III. "Dicionário Corográfico, Histórico e Estatístico de Pernambuco" - em relação à tonicidade dos termos sublinhados, esta recai na antepenúltima sílaba.
- IV. "...derivados de guirá ou guará (ave vermelha pernalta, aquática)..." - as duas primeiras palavras sublinhadas são acentuadas pela mesma regra gramatical. Quanto à terceira, a tonicidade recai na penúltima sílaba.

Está **CORRETO**, apenas, o que se afirma em

- A) III.
- B) II e III.
- C) II e IV.
- D) II.
- E) I, III e IV.

TEXTO 04 (questões de 08 a 10)

"É permissível a cada um de nós morrer pela sua fé, mas não matar por ela." (Hermann Hesse)

08. Para Hesse,

- A) a fé condiciona o ser humano à morte.
 B) matar pela fé é algo não permitido ao indivíduo.
 C) a opção pela morte é algo repudiado.
 D) a fé concorre para libertar as pessoas da morte.
 E) viver na fé ajuda a não nutrir desejos de vingança.

09. No fragmento "É permissível a cada um de nós morrer pela sua fé...", os termos sublinhados indicam exemplo de

- A) concordância verbal.
 B) concordância nominal.
 C) regência verbal.
 D) regência nominal.
 E) deslocamento de termos na oração.

10. No texto 04, o termo "mas" exprime ideia de oposição, podendo ser substituído, sem alterar o sentido, pelo conectivo

- A) pois.
 B) assim.
 C) todavia.
 D) portanto.
 E) por isso.

CONHECIMENTOS DE INFORMÁTICA

11. No MS-Windows 8, em sua configuração padrão, na área de trabalho, pode-se, ao clicar com o botão direito do mouse no botão Iniciar, acessar configurações rápidas, como

- () Opções de Energia
 () Gerenciador de Tarefas
 () Painel de Controle
 () Gerenciador de Dispositivos

Analise as afirmativas, coloque nos parênteses V nas verdadeiras e F nas falsas e assinale a alternativa que contém a sequência **CORRETA**.

- A) F – F – V – V
 B) F – F – F – F
 C) V – V – V – V
 D) F – F – V – F
 E) V – V – F – V

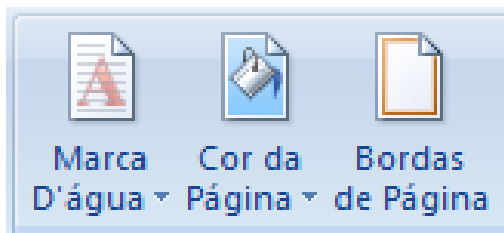
12. Considere o MS-Windows 7 em sua configuração padrão e analise as seguintes características:

- O painel esquerdo grande mostra uma lista breve de programas no computador. Pode haver variações na aparência dessa lista, porque o fabricante do computador tem autonomia para personalizá-la.
- Na parte inferior do painel esquerdo, está a caixa de pesquisa, que permite procurar programas e arquivos no computador, digitando os termos da pesquisa.
- O painel direito dá acesso a pastas, arquivos, configurações e recursos mais usados.

Essas são características das partes básicas do(a)

- A) Menu Iniciar.
 B) Barra de Menus.
 C) Windows Explorer.
 D) Barra de Ferramentas.
 E) Área de trabalho.

13. Observe os ícones do MS-Word 2007 na sua configuração padrão, apresentados na figura abaixo:



Esses ícones pertencem ao seguinte guia de opções:

- A) Inserir
- B) Layout de Página
- C) Referências
- D) Revisão
- E) Exibição

14. A planilha abaixo foi criada no MS-Excel 2007, em sua configuração padrão.

	A	B
1		
2	12	
3	15	
4	9	
5	7	
6		
7	=MÉDIA(A2:A5)	
8	=QUOCIENTE(A3;A5)	
9	=MOD(A3;A5)	
10		

O resultado das células A7, A8 e A9, respectivamente, é

- A) 10,75 / 2 / 1
- B) 10,75 / 0,47 / 2
- C) 10,5 / 2 / 1
- D) 43 / 1 / 2
- E) 43 / 0,47 / 2

15. A criptografia desempenha um papel fundamental, principalmente na transmissão de informações entre sistemas. A criptografia pode ser utilizada para confirmar a _____ e a _____ de uma informação.

Assinale a alternativa cujo termo preenche, **CORRETAMENTE**, as lacunas acima.

- A) Autenticidade / Integridade
- B) Disponibilidade / Integridade
- C) Autenticidade / Disponibilidade
- D) Legalidade / Confidencialidade
- E) Simplicidade / Confidencialidade

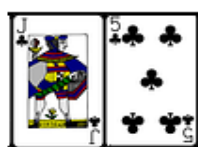
RACIOCÍNIO LÓGICO

16. Considerando a ordem alfabética oficial, que inclui as letras K, W e Y, assinale a alternativa que completa a seqüência:

$$\frac{Z X U}{A C F} = \frac{S Q N}{\dots}$$

- A) H J M
- B) J M N
- C) G I J
- D) I K L
- E) K M N

17. As cartas de um baralho foram agrupadas em pares, segundo uma relação lógica. Sabendo-se que K vale 13; Q, vale 12; J, 11 e A 1, qual o próximo grupo que completa a sequência?



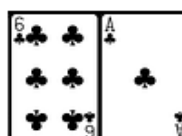
A)



B)



C)



D)



E)

18. Em uma cidade, foi realizada uma pesquisa para identificar a ordem de preferência dos três canais de televisão aberta mais assistidos entre os doze existentes. Que número de diferentes respostas essa pesquisa pode apresentar?

- A) 9
- B) 81
- C) 729
- D) 1320
- E) 3960

19. Em um conservatório de música, entre 400 alunos pesquisados, 290 tocam instrumentos de corda; 240, instrumentos de sopro, e 80 não tocam instrumentos de corda nem de sopro. Logo, _____ tocam apenas instrumentos de corda, enquanto _____, apenas instrumento de sopro; _____ tocam ambos os tipos de instrumentos.

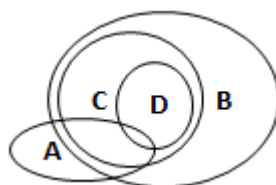
Assinale a alternativa que preenche, **CORRETA** e respectivamente, as lacunas.

- A) 80 / 30 / 210
- B) 110 / 260 / 30
- C) 120 / 30 / 80
- D) 120 / 80 / 30
- E) 260 / 110 / 30

20. Considere os seguintes conjuntos:

- A = { condutores com categoria de habilitação A }
 B = { condutores com categoria de habilitação B }
 C = { condutores com categoria de habilitação C }
 D = { condutores com categoria de habilitação D }

A relação entre as categorias de habilitação A, B, C e D pode ser representada pelo diagrama abaixo:



De acordo com esse diagrama, assinale a alternativa **INCORRETA**.

- A) Todo condutor habilitado na categoria C é habilitado na categoria B.
 B) Algum condutor habilitado na categoria B é habilitado na categoria A.
 C) Todo condutor habilitado na categoria D é habilitado na categoria C.
 D) Algum condutor habilitado na categoria C é habilitado na categoria A.
 E) Todo condutor habilitado na categoria D é habilitado na categoria A.

CONHECIMENTOS ESPECÍFICOS

21. Dentro das inovações implantadas no serviço público, uma delas é o atendimento aos seus usuários. Sobre essa preocupação, é CORRETO afirmar que

- A) existe um número cada vez menor de funcionários públicos envolvidos em capacitação.
 B) o atendimento com dia e horário agendados é uma prática bem observada pelos clientes.
 C) os usuários de serviços públicos sentem-se bem atendidos, em sua maioria, nas unidades médicas.
 D) o atendimento a um contribuinte de uma Secretaria de Finanças deve ser sempre por meio de sites para resolução de problemas.
 E) cada vez mais, os clientes de serviços municipais esperam um atendimento superficial, sem encaminhamentos.

22. Acerca do atendimento ao público, é CORRETO afirmar que

- A) apenas os clientes internos merecem atendimento diferenciado.
 B) podemos dizer que apenas as pessoas jurídicas merecem receber bom atendimento.
 C) os clientes internos e externos da empresa têm direito a um bom atendimento.
 D) apenas as pessoas físicas da empresa devem receber bom atendimento.
 E) um bom atendimento é realizado, apenas, para a direção da empresa.

23. “A convivência humana é difícil e desafiante, porque cada um reage de maneira diferente quando está inserido em um grupo de trabalho. Profissionais competentes individualmente podem render muito abaixo de sua capacidade por influência do grupo e das situações de trabalho”. Acerca das relações humanas no ambiente de trabalho, é CORRETO afirmar que

- A) devemos ser prestativos na medida certa para não sermos mal interpretados.
 B) não devemos praticar a empatia.
 C) o controle às reações agressivas deve ser visto de forma superficial.
 D) por ser superior na hierarquia, você pode interromper a palavra.
 E) fale o que pensa, sem se preocupar com quem está falando.

24. “Nunca dizer categoricamente: “Não concordo! Você está errado” – dizer a mesma coisa com outros termos. A maneira como você diz é mais importante do que aquilo que você diz”. Acerca das relações humanas no trabalho, analise as afirmativas abaixo:

- I. A preocupação com as relações trabalhistas deve sempre ser preservada.
 II. Sempre procurar observar o que é dito e expresso pelos colegas de trabalho.
 III. Analisar as relações conflitantes para não gerar problemas de interpretação.

Está **CORRETO** o que se afirma em

- A) I, II e III. D) II, apenas.
 B) I e III, apenas. E) II e III, apenas.
 C) I e II, apenas.

25. A rotina administrativa é formada por vários processos, que ocorrem de forma sistemática e que requerem conhecimentos técnico, científico e domínio de tecnologias. Acerca desses três níveis de conhecimento, numere a 2ª coluna de acordo com a 1ª, identificando os diferentes conceitos.

Conhecimento técnico	() Está relacionado ao uso de computadores, tablets, celulares, smarthphones, internet, etc.
Conhecimento científico	() Adquirido academicamente ou mediante o que se estudou na escola, cursos, etc.
Domínio de tecnologias	() Conhecimento adquirido sobre determinada coisa, bem específica.

Assinale a alternativa que apresenta a sequência **CORRETA**.

- A) 3 – 1 – 2 B) 1 – 2 – 3 C) 2 – 3 – 1 D) 3 – 2 – 1 E) 1 – 3 – 2

26. As atividades administrativas servem de apoio às atividades gerenciais. Nesse sentido, temos

- I. os documentos administrativos, que são manual de rotina e regulamento interno.
 II. relatórios de ocorrências.
 III. circular.

Está(ão) **CORRETO(S)** o(s) item(ns)

- A) I e III, apenas. D) I e II, apenas.
 B) I, II e III. E) II, apenas.
 C) I, apenas.

27. Rotinas administrativas são importantes e necessárias ao bom desempenho de uma Organização. Sobre isso, analise os procedimentos abaixo:

- I. Manter documentos e material atualizados.
 II. Controlar registro de frequência de funcionários.
 III. Realizar e atender chamadas telefônicas.
 IV. Emitir notas fiscais e recibos.
 V. Analisar demanda de clientes.

Estão **CORRETOS** apenas

- A) I, II e III. B) II e IV. C) III e V. D) I, II, III e IV. E) II e V.

28. A Ciência Geográfica nos permite compreender melhor o Planeta em que vivemos, porque investiga, dentre outros aspectos, o ser humano, a natureza e suas inter-relações desde as mais simples às mais complexas. Aponte a alternativa **INCORRETA** que se refere ao que a Geografia estuda.

- A) A natureza, suas relações e propriedades na Terra e no Universo, descrevendo esses padrões matematicamente em Leis Gerais.
 B) As sociedades humanas, seus espaços urbanos e agrários, sua gênese, dinâmica e modelos de produção.
 C) As diferentes regiões do globo terrestre, sendo elas frias ou quentes, áridas ou úmidas.
 D) A utilização dos recursos naturais pelas sociedades humanas na produção do espaço geográfico.
 E) As paisagens preservadas e modificadas pelo ser humano bem como as paisagens conservadas.

29. No que concerne às paisagens naturais, analise as afirmativas abaixo:

- I. As áreas florestais de difícil acesso, como regiões desérticas, polares, são alguns exemplos de paisagens naturais.
- II. Caracterizam-se pelo predomínio de elementos naturais.
- III. Destacam-se por apresentarem uma natureza em consórcio com a presença efetiva humana e seus múltiplos elementos culturais.
- IV. Estão cada vez mais se reduzindo, na medida em que os espaços são alterados pela ação antrópica.

Estão **CORRETAS**

- A) I e II, apenas. B) I, II e III, apenas. C) II, III e IV, apenas. D) I, II e IV, apenas. E) I, II, III e IV.

30. A sociedade contemporânea vem deparando-se com um grave problema: a disponibilidade hídrica das grandes cidades. Mesmo sendo um país com dimensões continentais, em sua maioria tropical, o Brasil enfrenta problemas de estiagem e de oferta de água potável. Sobre esse assunto, assinale a alternativa CORRETA.

- A) A falta de água acontece nas grandes cidades, porque são nesses ambientes onde se consome mais água em decorrência do grande contingente populacional, fato que repercute no ciclo hidrológico da região com menos chuvas.
- B) Mesmo com práticas ambientalmente corretas, as empresas de abastecimento no Brasil estão sendo obrigadas a reduzir a oferta de água em função dos grandes períodos sem chuva nas áreas próximas aos reservatórios em 2015, principalmente nas regiões Norte e Sudeste.
- C) Historicamente, a falta de água era um problema da região do Nordeste por ausência de sistemas de esgoto. Porém, regiões com sistemas eficazes de esgotamento, sanitário, como o Sul e Sudeste, estudam a possibilidade de reutilização de efluentes para não mais depender das chuvas.
- D) O esforço do poder público com políticas estruturadoras de âmbito nacional dos últimos dez anos vem contribuindo para que as cinco maiores bacias hidrográficas do Brasil fiquem livres de qualquer poluição decorrente de efluentes industriais e domésticos desde 2010.
- E) A retirada de matas ciliares e poluição de rios associada a um sistema de abastecimento com significativas perdas por vazamentos e longos períodos de estiagem contribuíram para a crise hídrica que boa parte do País vem vivenciando. Esse fato repercute na produção de alimentos e energia.

31. Em muitos casos, a ação humana provoca, na natureza, problemas como impactos ambientais negativos e degradação do ambiente em que vivemos. Diante dessa problemática, analise as alternativas abaixo e assinale a opção INCORRETA sobre a questão ambiental no século XXI.

- A) A utilização dos recursos naturais deve pautar-se em modalidades conscientes de conservação, que devem entender e respeitar o limite de cada recurso.
- B) Muitos recursos ambientais não são ilimitados. Em algumas regiões do Globo Terrestre, muitas sociedades já amargam sérias consequências da utilização inadequada desses recursos.
- C) O modelo de consumo desenfreado reflete pressões de grande magnitude aos recursos naturais, sobretudo na obtenção de matéria-prima para a produção de mercadorias que alimentam tal consumo.
- D) Na atualidade, os países mais ricos do Planeta vêm demonstrando esforços em *prol* da questão ambiental, assumindo como prioridade de governo acordos ambientais, como a redução de emissão de gases poluentes, redução de queimadas e desmatamentos, despoluição de leitos de rios, desaceleração do consumo capitalista, dentre outros.
- E) A adoção de práticas de reciclagem e reciclagem contribuem para a minimização da produção de resíduos sólidos com destinação inadequada, o que, por sua vez, permite a redução de custos com matérias-primas industriais.

32. No que se refere à população brasileira, analise as afirmativas abaixo:

- I. Desde o século XVI, a população indígena sofreu significativa redução no território do Brasil, porém, a partir do século XX, houve uma tendência de aumento do contingente populacional indígena com base na identificação, delimitação e homologação de reservas indígenas no País.
- II. A maior parte da população brasileira é resultante da descendência de indígenas e colonos portugueses.
- III. No período de 1808 a 1970, podemos citar como exemplos de grandes correntes migratórias livres no Brasil a Portuguesa, a Italiana, a Espanhola e a Alemã.
- IV. Apesar de populoso, o Brasil apresenta baixa densidade demográfica em muitas regiões, e o principal motivo é a distribuição irregular da população em seu território somada às suas grandes dimensões.

Estão **CORRETAS**

- A) I, II e IV, apenas. B) II e III, apenas. C) I, III e IV, apenas. D) II e IV, apenas. E) I, II, III e IV.

33. A estrutura da população do Planeta apresenta características homogêneas por um lado, e por outro, peculiaridades que merecem a atenção ao que podemos denominar de um verdadeiro mosaico demográfico ao longo do Globo. Acerca do tema, analise as afirmativas abaixo e coloque V nas verdadeiras e F nas falsas.

- () Alguns países classificados como desenvolvidos apresentam um comportamento demográfico com o aumento crescente de sua população idosa.
- () Nos países subdesenvolvidos, destaca-se a maior parcela da população representada por jovens, ou seja, com até quatro anos de idade e altas taxas de longevidade.
- () Através da Demografia, podemos realizar estudos estatísticos da população, de modo a identificar perfis de uma coletividade, com taxas de natalidade, mortalidade, migrações, longevidade, dentre outras.
- () O envelhecimento da população de um país pode representar um motivo de alerta, já que pode comprometer a oferta de mão de obra no mercado e o equilíbrio na conta dos sistemas previdenciários.
- () Um país com aumento da expectativa de vida traduz melhoria das condições e dos programas sociais para a população, como a oferta de saneamento básico, água tratada e serviços médicos eficazes.

Assinale a alternativa que apresenta a sequência **CORRETA**.

- A) V – V – V – F – V
- D) V – F – V – V – V
- B) V – F – F – V – V
- E) V – V – V – F – F
- C) V – V – V – V – V

34. Entende-se que a urbanização é um fenômeno relativamente recente. Sobre esse tema, assinale a alternativa INCORRETA.

- A) Em linhas gerais, no início do século XIX, menos de 10% da população mundial morava em cidades.
- B) Após a Segunda Guerra Mundial, muitos países subdesenvolvidos vivenciaram um processo de urbanização acelerada.
- C) São exemplos de países pouco urbanizados o Kuwait, Moçambique e a Etiópia.
- D) O fenômeno da urbanização possibilita aglomerações urbanas crescentes com mais de um milhão de habitantes ao longo do Globo Terrestre.
- E) Inegavelmente, a concentração fundiária e a precariedade das condições de vida no campo obrigam a migração de significativos grupos populacionais para os centros urbanos.

35. A Declaração Universal dos Direitos Humanos - DUDH foi, sem dúvida, um dos documentos mais traduzidos em todo o Planeta. Nesse documento, apresenta-se uma série de desafios a serem vencidos nas diversas nações do Globo Terrestre. Sobre este assunto, é CORRETO afirmar que

- A) a DUDH foi um esforço de representantes das três nações mais ricas do Planeta, promulgada em 10 de novembro de 1948.
- B) o cumprimento de direitos e liberdades constantes na DUDH deve ser protegido pelo império da lei e transmitido mediante o ensino e a educação.
- C) a assembleia geral que proclamou a DUDH conseguiu aceitação tácita de todas as nações do Planeta que a legitimaram, traduzindo-a para seus respectivos idiomas em 1948.
- D) por apresentar a essência do respeito aos direitos humanos, a DUDH não apresentou mudanças desde a sua proclamação, tampouco derivou a criação de outros tratados, uma vez que a própria Declaração já se faz suficiente em seu escopo.
- E) em um dos seus artigos, a DUDH destaca que ninguém será mantido em escravidão ou servidão, exceto nos casos em que as nações dispõem de legislação própria para reger o assunto.

36. No que concerne à violação dos direitos humanos, analise as afirmativas abaixo e assinale a CORRETA.

- A) Cada país apresenta uma organização social com regras e leis resultantes da formação histórica, social, política, cultural, religiosa, dentre outras. Adequar tais valores aos direitos humanos é um compromisso ético que cada nação deveria assumir. Infelizmente, esse contexto não passa de utopia em alguns países.
- B) Até meados do século XX, muitos países violavam os direitos humanos, principalmente no que se refere ao direito à vida, negligenciando assim milhares de casos de morte decorrentes de guerras e atentados coletivos. Nos dias atuais, essa realidade foi erradicada em todo o planeta.
- C) O estabelecimento de uma política de segurança pública eficaz permite o fiel cumprimento dos direitos humanos, uma vez que a violação desses direitos é o reflexo da carência de militarismo. Sistemas ditatoriais que detêm forte controle de Estado são exemplos do cumprimento desses direitos e deveres.
- D) As noções de direitos humanos devem ser trabalhadas em coletividade quando os seres humanos se tornam adultos, de modo a permitir a efetivação da cidadania. É, portanto, desnecessário abordar tais noções ainda no ensino básico, banalizando, assim, significados e conteúdos que só terão significados concretos mais tarde em outras faixas etárias.
- E) No artigo que se refere à liberdade de expressão, a Declaração Universal dos Direitos Humanos assegura a qualquer cidadão o direito à liberdade de opinião e de expressão, desde que esse direito não entre em conflito com alguma lei que já tenha sido legitimada e instituída pelos instrumentos legisladores em âmbito nacional, para que não haja sobreposição de interesses e descumprimento da lei magna daquele país.

37. De acordo com a Lei Municipal Nº 2.436, de 04 de abril de 1990 e suas alterações, é INCORRETO afirmar que compete ao Município de Garanhuns

- A) criar, organizar e suprimir distritos, observada a legislação estadual.
- B) conceder ou renovar licença para instalação e funcionamento de estabelecimentos comerciais, industriais e de prestação de serviços.
- C) dispor sobre apreensão, depósito e destino de animais e mercadorias, em decorrência de transgressão da legislação municipal.
- D) elaborar o Plano Diretor, o Plano Plurianual, a Lei de Diretrizes Orçamentárias e o Orçamento Anual.
- E) julgar as contas prestadas semestralmente pelos Poderes Legislativo e Judiciário, de modo a garantir o bom andamento das contas públicas municipais.

38. De acordo com os Artigos 16 e 17, da Lei Municipal Nº 2.436, de 04 de abril de 1990 e suas alterações, analise cada hipótese descrita sobre perda ou manutenção do mandato de Vereador:

- I. Caso venha a perder ou tiver suspensos os direitos políticos, perde o mandato.
- II. Caso deixe de comparecer em cada sessão legislativa, à terça parte das reuniões ordinárias da Câmara, salvo licença ou missão autorizada, perde o mandato.
- III. Caso venha a investir no cargo de Secretário da Prefeitura de Garanhuns, não perde o mandato.
- IV. Caso solicite licença para tratar de interesse particular, o Vereador licenciado não terá direito à percepção do subsídio, não perde o mandato.

Estão **CORRETAS**

- A) I e III, apenas.
- B) I, II e III, apenas.
- C) I e IV, apenas.
- D) I, III e IV, apenas.
- E) I, II, III e IV.

39. Em relação à Lei Nº 1.439, de 17 de novembro de 1969, que instituiu o Código de Postura do Município de Garanhuns, considerando suas alterações, assinale a alternativa CORRETA.

- A) Ao ser sancionado pelo Prefeito Luiz Souto Dourado, o referido Código de Postura entrou em vigor trinta dias após a sua publicação.
- B) O referido Código de Postura foi originalmente criado em 1969, estruturado em seis capítulos e cento e noventa e cinco artigos.
- C) Em linhas gerais, o Código de Postura aborda o conjunto de normas municipais em matéria de higiene, ordem pública e funcionamento dos estabelecimentos comerciais e industriais do Município de Garanhuns.
- D) Em seu Capítulo II, que trata das infrações e penas, caso reincidentes, as multas serão cominadas em dobro, fato que desobriga ao infrator o cumprimento da exigência que a houver determinado.
- E) É autoridade para confirmar os autos de infração arbitrar multas qualquer servidor público municipal que tenha conhecimento das disposições do Código de Postura, fazendo-o valer na prática efetiva no âmbito do território municipal.

40. No que se refere às alterações do Código de Postura Municipal de Garanhuns, assinale a alternativa INCORRETA.

- A) Em 1972, a Lei Nº 1.547, de 19/07/1972 altera a redação do Artigo 175, Parágrafo 1º, Item II, Letra “a”, do Código de Postura (Lei Nº 1.439 de 1969), acerca do horário de funcionamento de estabelecimentos comerciais.
- B) Em 1984, a Lei Nº 2.131, de 17/09/1984 define nova redação ao Código de Postura (Lei Nº 1.439 de 1969) acerca do funcionamento dos estabelecimentos comerciais que não funcionarão nas quartas segundas-feiras do mês de outubro de cada ano em razão do dia do comércio.
- C) Em 1986, a Lei Nº 2.242, de 28/11/1986 estabelece a proibição de criação ou engorda de porcos e aves para fins industriais no perímetro urbano da Sede Municipal. O Código de Postura (Lei Nº 1.439 de 1969,) em seu Artigo 96, já proibia a criação ou engorda de porcos.
- D) Em 1997, a Lei Nº 2.857, de 06/11/1997 altera o Código de Postura (Lei Nº 1.439 de 1969) em seu Capítulo II, no que diz respeito à veiculação de anúncios e cartazes e dispõe sobre o ordenamento de publicidade no espaço urbano de Garanhuns.
- E) Em 2007, a Lei Nº 3.520 de 24/10/2007 altera os Artigos 8º e 9º da Lei Nº 2.857, de 06/11/1997, acrescentando o parágrafo que considera mural o veículo de divulgação formado pela colagem ou afixação de cartazes conhecidos como Lambe-Lambe.



ATENÇÃO

- *Abra este Caderno, quando o Fiscal de Sala autorizar o início da Prova.*
- *Observe se o Caderno está completo. Ele deverá conter 40 (quarenta) questões objetivas de múltipla escolha com 05 (cinco) alternativas cada, sendo 10 (dez) de Português, 05 (cinco) de Conhecimentos de Informática, 05 (cinco) de Raciocínio Lógico e 20 (vinte) de Conhecimentos Específicos.*
- *Se o Caderno estiver incompleto ou com algum defeito gráfico que lhe cause dúvidas, informe, imediatamente, ao Fiscal.*
- *Uma vez dada a ordem de início da Prova, preencha, nos espaços apropriados, o seu Nome completo, o Número do seu Documento de Identidade, a Unidade da Federação e o Número de Inscrição.*
- *Para registrar as alternativas escolhidas nas questões objetivas de múltipla escolha, você receberá um Cartão-Resposta de Leitura Ótica. Verifique se o Número de Inscrição impresso no Cartão coincide com o seu Número de Inscrição.*
- *As bolhas constantes do Cartão-Resposta devem ser preenchidas totalmente, com caneta esferográfica azul ou preta.*
- *Preenchido o Cartão-Resposta, entregue-o ao Fiscal e deixe a sala em silêncio.*



BOA SORTE!

