



**PORTUGUÊS**

**Texto 01 (questões de 01 a 03)**

**EDUCAÇÃO AMBIENTAL**

*Evitar o desperdício de água e energia é essencial para garantir a sustentabilidade do planeta Terra. Educar a criança para que evite o desperdício dentro da sua própria casa é tarefa dos pais. Apagar as luzes ao sair do quarto ou banheiro, desligar a TV quando não há ninguém assistindo, manter a porta da geladeira fechada ou tirar da tomada os aparelhos que não estão em uso, são hábitos simples que representam grande economia e que as crianças devem aprender. Fechar as torneiras para escovar os dentes ou ensaboar a louça, não brincar no chuveiro e não lavar o chão ou o carro com mangueiras também são ações que fazem diferença no consumo da água e estão ao alcance de todas as crianças. Poupar e usar, de forma consciente, é educação ambiental.*

Disponível em: [www.anamariadeandrade.com](http://www.anamariadeandrade.com)

**01. Com base no texto 01, assinale a alternativa INCORRETA.**

- A) Cabe aos pais educar os filhos quanto ao desperdício da água e da energia dentro do seu lar.
- B) Ao sair dos quartos e do banheiro, deve-se apagar as luzes, evitando-se o desperdício de energia.
- C) Pessoas conscientes do desperdício de energia não deixam a TV ligada, se não estiverem assistindo.
- D) Contribui-se com a educação ambiental, fechando-se as torneiras ao escovar os dentes.
- E) Ao se lavarem as calçadas com mangueiras, faz-se redução no consumo da água.

**02. Ao se ler o texto 01, observam-se vários termos acentuados. Sobre isso, analise as afirmativas abaixo, colocando F nas falsas e V nas verdadeiras.**

- Os termos “desperdícios” “água” e “própria” recebem acento por serem paroxítonos terminados em ditongo.
- Os termos “ninguém” e “também” são acentuados por serem oxítonos terminados em EM.
- O termo “hábito” é proparoxítono, logo recebe acento.

**Assinale a alternativa que apresenta a sequência CORRETA.**

- A) F-F-F
- B) F-F-V
- C) F-V-V
- D) V-V-V
- E) V-F-F

**03. Na palavra “casa”, existe o fonema /z/ (“zê”) representado pela letra S. Isso ocorre em todas as palavras abaixo, EXCETO em**

- A) esquisito.
- B) básico.
- C) agasalho.
- D) maisena.
- E) utensílio.

**Texto 02 (questões 04 e 05)**



**04. Analisando-se o texto 02, observam-se os termos “um país melhor” que complementam o sentido da forma verbal “merecemos”, sem ser regido de preposição. Assim, assinale a alternativa cujo verbo segue a mesma regência.**

- A) Chega de corrupção, violência, criminalidade.
- B) Nós, brasileiros, não aguentamos mais tanta desonestidade.
- C) Precisa-se de um líder o mais rápido possível.
- D) O povo brasileiro precisa reagir à situação atual.
- E) Vamos à luta pelos nossos direitos com respeito e dignidade!

05. Ainda sobre a forma verbal “merecemos”, é correto afirmar que ela concorda com o seu sujeito “nós”. Sobre concordância verbal, assinale a alternativa INCORRETA.

- A) Haverão várias pessoas nas praças pedindo mudanças.  
 B) O povo brasileiro precisa de dirigentes comprometidos.  
 C) Nós, brasileiros, somos muito passivos.  
 D) O nosso país está um caos.  
 E) Quem será o nosso novo líder?

Texto 03 (questões de 06 a 09)

**UMA FAMÍLIA BONITA**

*Uma família bonita é aquela na qual não existe a doença da competição, competição profissional entre marido e mulher, competição de poder entre cunhado e cunhado... quando não se troca de carro para mostrar poder... uma família em que os filhos crescem com disciplina, mas sem a tirania de competição. Uma família bonita é aquela na qual não há neurótica vontade de ter, de gozar a vida, de ter cada vez mais. É aquela em que seus membros vivem na abundância das coisas necessárias e que partilham os seus bens com uma tia solteirona e uma prima envelhecida para que possam pagar o plano de saúde. Uma família bonita é aquela em que seus membros gostam de cantar e de dizer uma prece bonita na hora da refeição.*

Disponível em: <http://www.pastorafamiliarsantarita.com.br/mais/ora%C3%A7%C3%B5es-e-mensagens/>

06. O texto traz como ideia principal que

- A) a competição é um bem precioso, valorizado por todas as famílias.  
 B) a competição é uma patologia que existe nas famílias mais bonitas.  
 C) numa família bonita, os seus membros trocam de carro para mostrar poder.  
 D) uma família bonita é aquela em que seus membros sabem dividir os seus bens.  
 E) o ideal de uma família bonita é o de nela haver pessoas que apreciem sempre o ter em abundância.

07. No trecho “Uma família bonita é aquela na qual não há neurótica vontade de ter, de gozar a vida...” a vírgula foi empregada para separar elementos de mesma função sintática. Isso ocorre também na alternativa

- A) Na família bonita, a competição é algo inexistente.  
 B) A família, um bem que vale mais que o ouro, deve ser preservada.  
 C) Maria, quer fazer parte da minha família?  
 D) Em um futuro breve, não haverá competição entre membros da família.  
 E) Eu, meu pai e minha mãe formamos uma família.

08. No texto, o adjetivo “bonita” concorda com o substantivo “família”. Em qual das alternativas abaixo, o termo sublinhado NÃO concordou com o termo ao qual se refere?

- A) Os pais cujos filhos tiraram nota excelente receberam bastantes congratulações.  
 B) É proibido a entrada de pessoas estranhas à família.  
 C) Os pais que zelam pelos seus filhos estão quites com a sociedade.  
 D) A mãe está meio triste porque o filho não faz prece às refeições.  
 E) A família bonita diz obrigada aos seus membros quando da sua renúncia às drogas.

09. No trecho “... uma família em que os filhos crescem com disciplina, mas sem a tirania de competição.” o conectivo “mas” liga duas orações independentes, estabelecendo entre elas uma relação de

- A) adição.                      B) oposição.                      C) explicação.                      D) conclusão.                      E) exclusão.

Texto 04 (questão 10)



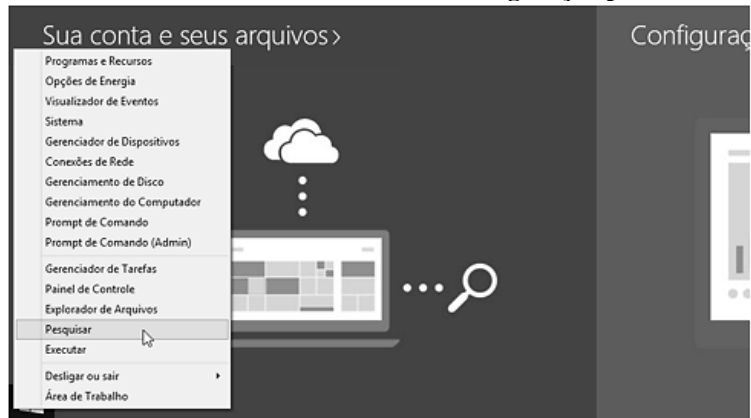
10. Com base no texto 03, é INCORRETO afirmar que

- A) se trata de um exemplo de intertextualidade, ou seja, um texto faz alusão a outro.  
 B) se trata de um anúncio publicitário, que tem como objetivo levar o leitor a consumir um telefone.

- C) nele está presente a ideia de oposição, expressa nos termos *morto* e *vivo*.
- D) apresenta um erro de regência verbal. O correto seria: Lembre-se de que um dia você não vai mais estar vivo.
- E) o termo “um” é um numeral, pois indica quantidade de dias.

**CONHECIMENTOS DE INFORMÁTICA**

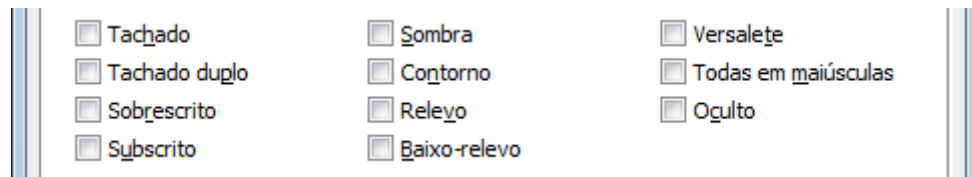
11. A figura abaixo apresenta uma tela do MS-Windows 8 em sua configuração padrão.



O menu mostrado na figura pode ser exibido por meio do(a)

- A) Botão Iniciar.
- B) Tecla de logotipo do Windows + D no teclado.
- C) Barra de tarefas.
- D) Barra de tarefas e navegação.
- E) Canto superior esquerdo da barra de título.

12. Observe a janela do MS-Word 2007 em sua configuração original, exibida parcialmente na figura abaixo:



Trata-se de um conjunto de

- A) Efeitos de Texto
- B) Realce de Texto
- C) Tipos de Fontes
- D) Efeitos de Fontes
- E) Realce de Fontes

13. Considere os seguintes trechos de planilhas MS-Excel 2007 em sua configuração padrão.

I

|   | A          | B       |
|---|------------|---------|
| 1 | Data da Vi | Destino |
| 2 |            |         |

II

|   | A              | B       |
|---|----------------|---------|
| 1 | Data da Viagem | Destino |
| 2 |                |         |

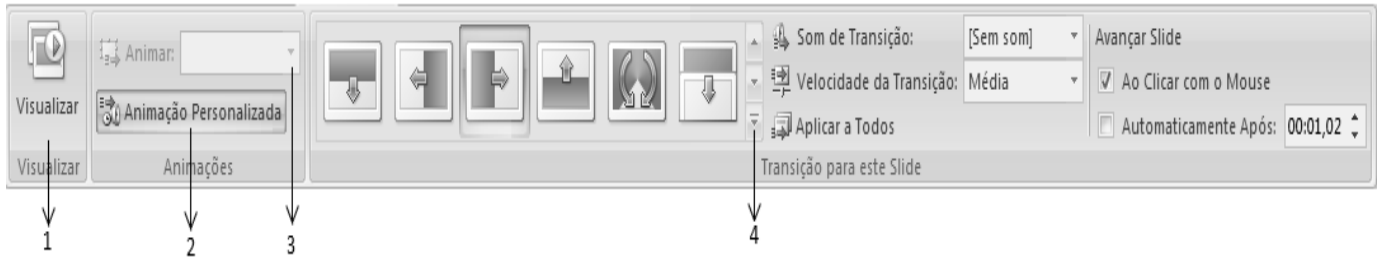
III

|   | A              | B       |
|---|----------------|---------|
| 1 | Data da Viagem | Destino |
| 2 |                |         |

As planilhas II e III foram obtidas a partir da planilha I, quando selecionadas, respectivamente, as opções

- A) Reduzir para caber / Quebrar texto automaticamente.
- B) Quebrar texto automaticamente / Reduzir para caber.
- C) Mesclar células / Reduzir para caber.
- D) Reduzir para caber / Ajustar célula.
- E) Ajustar célula / Reduzir para caber

14. Observe a figura de uma guia do MS-PowerPoint 2007 em sua configuração padrão e assinale a alternativa que corresponde às indicações de status das opções dessa guia.



- A) 1-Ativado, 2-Submenu, 3-Indisponível, 4-Selecionado.
- B) 1-Ativado, 2-Selecionado, 3-Indisponível, 4-Mais opções.
- C) 1-Selecionado, 2-Selecionado, 3-Indisponível, 4-Submenu.
- D) 1-Disponível, 2-Selecionado, 3-Ativado, 4-Mais opções.
- E) 1-Selecionado, 2-Ativado, 3-Disponível, 4-Submenu.

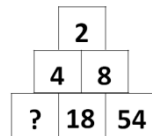
15. Para a segurança da informação, o conceito de \_\_\_\_\_ está ligado à propriedade de manter a informação armazenada com todas as suas características originais estabelecidas pelo dono da informação, tendo atenção com o seu ciclo de vida (criação, manutenção e descarte).

Assinale a alternativa cujo termo preenche CORRETAMENTE a lacuna acima.

- A) Autenticidade
- B) Confidencialidade
- C) Disponibilidade
- D) Integridade
- E) Irretratabilidade

**RACIOCÍNIO LÓGICO**

16. Que número substitui a ? na sequência



- A) 6
- B) 8
- C) 10
- D) 12
- E) 14

17. Assinale a alternativa que contém o número que completa a sequência 30 24 19 15 12 .....

- A) 10
- B) 8
- C) 6
- D) 4
- E) 2

18. O Mínimo Múltiplo Comum (MMC) e o Máximo Divisor Comum (MDC) dos números 12, 16 e 28, respectivamente, são:

- A) 2 e 118
- B) 118 e 2
- C) 4 e 336
- D) 336 e 4
- E) 118 e 336

19. Qual o maior número que divide 128 e 326 e deixa o resto 7?

- A) 2
- B) 4
- C) 7
- D) 9
- E) 11

20. Para montagem de cestas básicas, foram destinados 48 quilos de feijão, 44 de arroz, 40 de farinha e 36 de milho. Cada cesta deve receber o mesmo e o maior número possível de cada cereal. O número total de cestas montadas é de

- A) 48
- B) 42
- C) 12
- D) 8
- E) 4

**CONHECIMENTOS ESPECÍFICOS**

21. Observe as imagens das ferramentas mostradas ao lado. Identifique-as e assinale abaixo a alternativa correspondente.

- A) Pá – Chibanca – Serra
- B) Machado – Tesoura de Poda – Furadeira
- C) Ancinho (Ciscador) – Sacho – Chibanca
- D) Foice – (Ancinho) Ciscador - Tesoura de Cortar Grama
- E) Ancinho (Ciscador) – Sacho – Tesoura de Cortar Grama



**22. A TESOURA DE PODA é uma ferramenta utilizada na jardinagem para corte de**

- A) relvados.
- B) gramados.
- C) troncos e galhos de grandes espessuras.
- D) ramos e galhos de pequenas espessuras.
- E) gramados e relvados.



**23. Após o uso diário de FERRAMENTAS e EQUIPAMENTOS, o jardineiro deve**

- A) deixá-los em algum recanto da obra para utilizá-los no dia seguinte.
- B) guardá-los em qualquer lugar sem o cuidado de fazer a limpeza geral.
- C) limpá-los e ou lavá-los com água, enxugá-los e guardá-los em local apropriado.
- D) nunca limpar nem lavar.
- E) limpá-los apenas de 15 em 15 dias.

**24. Em seu serviço, o jardineiro realiza várias atividades. Indique, abaixo, a alternativa que NÃO se enquadra na atividade de jardineiro.**

- A) Plantio e replantio de mudas dos jardins.
- B) Irrigação das plantas em geral.
- C) Corte de grama, adubação e pulverizações.
- D) Serviços de alvenaria com todos os tipos de construções.
- E) Poda de árvores e arbustos.

**25. Em caso de intoxicação por Defensivos Agrícolas (PRODUTOS AGROTÓXICOS), o jardineiro deve**

- A) tomar leite.
- B) tomar muita água.
- C) tomar café quente.
- D) procurar, apenas, uma farmácia e comprar remédio para intoxicação.
- E) procurar, de imediato, um médico nos serviços de urgências hospitalares.

**26. Com relação ao uso dos DEFENSIVOS AGRÍCOLAS, o jardineiro deve**

- A) aplicar produtos sem qualquer preocupação com a orientação técnica.
- B) aplicar produtos sem utilizar equipamentos de proteção individual (EPI).
- C) aplicar produtos utilizando os equipamentos de proteção individual (EPI).
- D) aplicar produtos mesmo com prazos de validade vencidos.
- E) pulverizar nas horas quentes do dia, contra o vento e em dias de vento forte.

**27. Caso ocorra ataque de pragas ou surja alguma doença nas plantas, que providência urgente deve ser tomada?**

- A) Aplicar qualquer produto agrotóxico que tenha disponível.
- B) Procurar um profissional especializado para receber as orientações técnicas.
- C) Nesse momento, as orientações técnicas não teriam nenhuma importância.
- D) Aplicar qualquer produto agrotóxico e fazer poda geral nas plantas.
- E) Apenas fazer poda nas plantas.

**28. Indique, dentre as alternativas abaixo, aquela que tem a característica marcante existente nos ARBUSTOS que os diferenciam das ÁRVORES.**

- A) São plantas que crescem até 1,00m e não se ramificam.
- B) Apresentam ramificações desde a base do caule e crescem até 5,00m.
- C) Não apresentam ramificações desde a base do caule e crescem até 30,00m.
- D) Só apresentam ramificações acima de 6,00m e crescem até 20,00m.
- E) Crescem, no máximo, 2,00m.

**29. IPÊ – ACÁCIA – FLAMBOYANT são plantas de belas florações utilizadas no paisagismo e bastante conhecidas pelos profissionais de jardinagem. Qual alternativa abaixo apresenta o local apropriado para o seu plantio?**

- A) Na arborização urbana
- B) Nas jardineiras suspensas de residências
- C) Nos canteiros dos jardins de inverno residenciais
- D) Nos canteiros suspensos para forração
- E) Nos canteiros para formação de cerca viva

**30. No plantio de mudas arbóreas, recomenda-se colocar um “GUIA” (escora), fixo no solo, amarrando-o ao caule da planta para a árvore crescer ereta e evitar que ela se quebre. Como é chamado esse “GUIA”?**

- A) Varinha
- B) Vara
- C) Tutor
- D) Varal
- E) Cerca de proteção

**31. Em relação à PODA das árvores, é CORRETO afirmar que**

- A) deve ser realizada apenas com foices, facões e machados.
- B) deve ser realizada apenas com machado em árvores de grande porte.
- C) deve ser realizada apenas com foices.
- D) deve ser realizada apenas com facões em árvores de pequeno porte.
- E) não deve ser realizada com foices, facões nem machados.

**32. A prática realizada para melhorar as condições de NUTRIÇÃO DO SOLO é denominada de**

- A) irrigação.
- B) pulverização.
- C) supressão.
- D) polvilhamento.
- E) adubação.

**33. Após as podas realizadas nos jardins, os ramos, os galhos e as folhagens podados, podem ser destinados para produzir “HÚMUS.” Sobre esse produto, é CORRETO afirmar que**

- A) é prejudicial ao solo e às plantas.
- B) é um adubo químico prejudicial às plantas.
- C) é neutro, sem causar nenhum efeito para as plantas.
- D) é um adubo orgânico importante para o solo e para as plantas.
- E) é um adubo sem nenhuma importância para o solo.

**34. Sobre a CALAGEM, é CORRETO afirmar que é uma prática realizada para**

- A) tornar o solo mais rico em Potássio.
- B) correção da acidez do solo.
- C) adubação orgânica.
- D) tornar o solo mais ácido.
- E) tornar o solo mais rico em Nitrogênio e Potássio.

**35. A COMPOSTAGEM é uma forma, que se tem de “produzir”**

- A) húmus.
- B) fertilizante químico.
- C) adubo nitrogenado.
- D) adubo inorgânico.
- E) compostos inorgânicos.

**36. O NPK é um produto utilizado na jardinagem. Sobre isso, assinale a alternativa que corresponde a essa sigla.**

- A) Formulação composta de nitrogênio, fósforo e potássio.
- B) Formulação composta de níquel, polônio e kripton.
- C) É um adubo orgânico.
- D) É um composto de um fungicida.
- E) É um composto de um inseticida.

**37. Para ter GRAMADOS verdes e bonitos, é necessário realizar adubações periodicamente. Sobre esse assunto, assinale a alternativa CORRETA.**

- A) A adubação nos gramados deve ser feita, apenas, com estrume bovino.
- B) Logo após a aplicação de fertilizantes, regar de imediato e diariamente.
- C) Aplicar fertilizantes manualmente “a lanço” é a que fica mais uniforme.
- D) Ao término da aplicação de fertilizantes, regar apenas dez dias após.
- E) Ao término da aplicação de fertilizantes, regar apenas cinco dias após.

**38. Assinale a alternativa que apresenta três métodos de propagação assexuada, “VEGETATIVA”.**

- A) Estaquia – alporquia – divisão de touceira
- B) Semente – pé franco – alporquia
- C) Estaquia – semente – alporquia
- D) Semente – alporquia – divisão de touceira
- E) Estaquia – semente – divisão de touceira

**39. O ENXERTO tem como resultado uma planta formada da união de parte de duas plantas. Qual ferramenta deve ser utilizada para realizá-lo?**

- A) Facão
- B) Serra
- C) Canivete
- D) Serrote
- E) Machadinha

**40. Sobre o conceito de ERVA DANINHA, assinale a alternativa CORRETA.**

- A) Planta desejada por todos na agricultura.
- B) Planta Exótica que nasce de forma espontânea e é desejada nos jardins.
- C) Planta Nativa que nasce espontaneamente, sendo desejada nos jardins.
- D) Planta que nasce espontaneamente e se desenvolve onde não é desejada.
- E) O mesmo que cultivo de erva mate.



### **ATENÇÃO**

- *Abra este Caderno, quando o Fiscal de Sala autorizar o início da Prova.*
- *Observe se o Caderno está completo. Ele deverá conter 40 (quarenta) questões objetivas de múltipla escolha com 05 (cinco) alternativas cada, sendo 10 (dez) de Português, 05 (cinco) de Conhecimentos de Informática, 05 (cinco) de Raciocínio Lógico e 20 (vinte) de Conhecimentos Específicos.*
- *Se o Caderno estiver incompleto ou com algum defeito gráfico que lhe cause dúvidas, informe, imediatamente, ao Fiscal.*
- *Uma vez dada a ordem de início da Prova, preencha, nos espaços apropriados, o seu Nome completo, o Número do seu Documento de Identidade, a Unidade da Federação e o Número de Inscrição.*
- *Para registrar as alternativas escolhidas nas questões objetivas de múltipla escolha, você receberá um Cartão-Resposta de Leitura Ótica. Verifique se o Número de Inscrição impresso no Cartão coincide com o seu Número de Inscrição.*
- *As bolhas constantes do Cartão-Resposta devem ser preenchidas totalmente, com caneta esferográfica azul ou preta.*
- *Preenchido o Cartão-Resposta, entregue-o ao Fiscal e deixe a sala em silêncio.*



**BOA SORTE!**

